

Soluções Comentadas das Provas de Matemática
de Admissão à Escola de Aprendizes-Marinheiros

Sumário

I	Provas	7
1	Matemática 2004/2005	9
2	Matemática 2005/2006	13
3	Matemática 2006/2007	17
4	Matemática 2007/2008	21
5	Matemática 2008/2009	25
6	Matemática 2009/2010	27
7	Matemática 2010/2011	31
8	Matemática 2011/2012	33
9	Matemática 2012/2013	37
10	Matemática 2013/2014	39
11	Matemática 2014/2015	41
12	Matemática 2015/2016	45
II	Soluções	47
13	Matemática 2004/2005	49
14	Matemática 2005/2006	57
15	Matemática 2006/2007	63

16 Matemática 2007/2008	71
17 Matemática 2008/2009	77
18 Matemática 2009/2010	85
19 Matemática 2010/2011	91
20 Matemática 2011/2012	97
21 Matemática 2012/2013	103
22 Matemática 2013/2014	109
23 Matemática 2014/2015	115
24 Matemática 2015/2016	119
A Gabarito Completo	125

Parte I

Provas

Capítulo 1

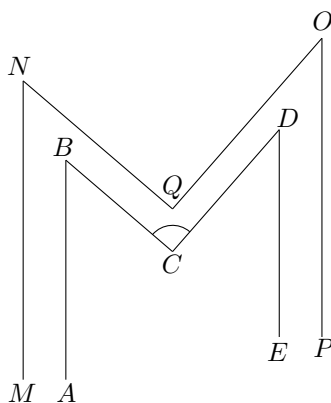
Matemática 2004/2005

1) O lucro mensal de uma fábrica é dado por $L(x) = -2x^2 + 32x - 56$, sendo x medido em milhares de peças fabricadas e L em milhões de Reais.

Quando o lucro é nulo, isto é, $-2x^2 + 32x - 56 = 0$, a quantidade de peças produtivas é a solução positiva da equação, multiplicada por mil, então a quantidade de peças para que o lucro seja nulo é:

- (A) 2.000 ou 14.000
- (B) 3.000 ou 16.000
- (C) 4.000 ou 12.000
- (D) 5.000 ou 16.000
- (E) 7.000 ou 18.000

2) Na figura, os segmentos \overline{AB} , \overline{BC} , \overline{CD} , \overline{DE} são respectivamente paralelos aos segmentos \overline{MN} , \overline{NQ} , \overline{QO} , \overline{OP} , o ângulo $\widehat{POQ} = 35^\circ$ e $\widehat{ABC} = 40^\circ$. O valor do ângulo \widehat{BCD} é:

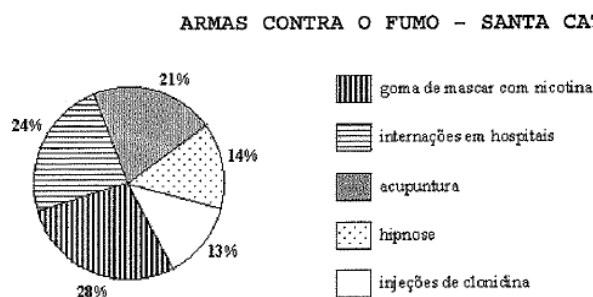


- (A) 35°
- (B) 40°
- (C) 50°
- (D) 55°
- (E) 75°

3) Se uma torneira enche um reservatório de água de $5,4 \text{ m}^3$ a uma razão de 15 litros por minuto, quanto tempo levará para encher completamente o reservatório?

- (A) quatro horas (D) seis horas e meia
 (B) cinco horas e meia (E) sete horas
 (C) seis horas

4) Num trabalho de pesquisa feito com 10.000 fumantes, divididos em 5 grupos em que a cada grupo foi aplicada uma arma contra o fumo, conforme o gráfico abaixo. Sabe-se que 40% do grupo que utilizaram a acupuntura parou de fumar. O número de pessoas que participaram dessa pesquisa e que pararam de fumar através da acupuntura é:



- (A) 840 (B) 860 (C) 1020 (D) 1400 (E) 1480

5) A área da figura hachurada, onde todas as medidas são em metros é:

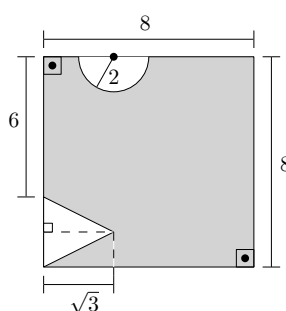


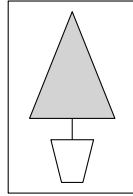
Figura 1.1: Questão 5

Considere: $\pi = 3,1$ e $\sqrt{3} = 1,3$

- (A) 54,1 (B) 56,1 (C) 58,2 (D) 60,1 (E) 61,3

6) No painel o desenho de uma árvore de natal, na forma de um triângulo isósceles,

onde a altura, e a base são números inteiros e os lados medem $\sqrt{10}$, será revestido com um papel de parede, que custa R\$ 8,00 o metro quadrado. Qual o custo mínimo para revestir essa árvore?



- (A) R\$ 16,00
 (B) R\$ 24,00
 (C) R\$ 32,00
 (D) R\$ 40,00
 (E) R\$ 48,00

7) Os irmãos Antônio e Pedro, sem nenhuma economia, receberam de seu pai uma certa quantia em dólares cada um, para fazer uma viagem. Percebendo a diferença entre essas quantias, Antônio dá a Pedro tantos dólares quanto Pedro possui; Em seguida Pedro dá a Antônio tantos dólares quanto Antônio possui. Iniciam a viagem com U\$\$ 1.800,00 cada um. Quantos dólares cada um recebeu de seu pai inicialmente?

- (A) Antônio recebeu U\$\$ 1000,00 e Pedro U\$\$ 800,00
 (B) Antônio recebeu U\$\$ 2000,00 e Pedro U\$\$ 2250,00
 (C) Antônio recebeu U\$\$ 1350,00 e Pedro U\$\$ 2600,00
 (D) Antônio recebeu U\$\$ 2250,00 e Pedro U\$\$ 1000,00
 (E) Antônio recebeu U\$\$ 2250,00 e Pedro U\$\$ 1350,00

8) O valor simplificado da expressão:

$$\frac{1,363636\dots \times 2\frac{1}{5} - (0,5)^2}{(\sqrt{2})^{-4}}$$

é:

- (A) $\frac{9}{5}$
 (B) $\frac{31}{5}$
 (C) 7
 (D) 9
 (E) 11

9) Para monitorar duas avenidas, devem ser instaladas câmeras, posicionadas em pontos a partir da posição 1 até a posição n nas avenidas A e B (figura 1.2)¹.

¹Destaque nosso.

Sendo u a maior e constante distância entre as câmeras, o total de câmeras a serem instaladas nas avenidas é:

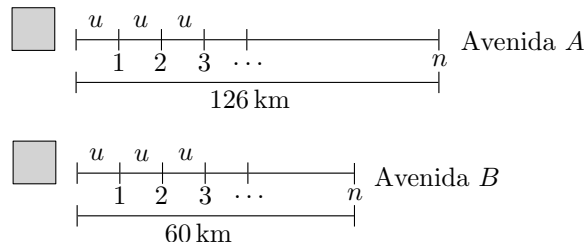
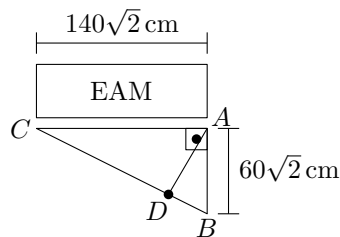


Figura 1.2: Questão 9

- (A) 28 (B) 30 (C) 31 (D) 36 (E) 37

10) Para sustentação do letreiro é feito um suporte de ferro na forma de um triângulo retângulo ABC . Calcule o comprimento da barra de ferro representada pelo segmento \overline{AD} sabendo que é bissetriz do ângulo \widehat{BAC} .



- (A) 0,56 m (B) 0,84 m (C) 0,92 m (D) 1 m (E) 1,2 m

11) Em uma viagem foram colocados dois tipos de revistas para que os tripulantes de uma fragata desfrutassem de uma boa leitura. Ao final da viagem foi feita uma pesquisa com todos os tripulantes para saber das preferências com relação às revistas “saúde à bordo” ou “vida marinha”, verificou-se que:

- 20 tripulantes leram “saúde à bordo”
- 30 tripulantes leram “vida marinha”
- 8 tripulantes leram as duas revistas
- 14 tripulantes não leram nenhuma dessas revistas

Qual o número de tripulantes da fragata nesta viagem?

- (A) 56 (B) 58 (C) 64 (D) 68 (E) 72

12) Um marinheiro ao viajar comprou U\$\$ 1000,00 a uma taxa de 2,9 Reais por Dólar. Não havendo usado este dinheiro na viagem, ele vendeu, na sua volta a uma taxa de 2,7 Reais por Dólar. Então:

- (A) O marinheiro lucrou R\$ 180,00
- (B) O marinheiro lucrou R\$ 190,00
- (C) O marinheiro lucrou R\$ 200,00
- (D) O marinheiro perdeu R\$ 100,00
- (E) O marinheiro perdeu R\$ 200,00

13) Numa competição de arremesso de dardo, o vencedor conseguiu 82 m. O segundo colocado 78 m. De quanto foi o lançamento do terceiro colocado, sabendo-se que a diferença entre seu lançamento e o lançamento do segundo colocado foi a terça parte da diferença entre o seu lançamento e o do primeiro?

- (A) 72 m
- (B) 74 m
- (C) 75 m
- (D) 76 m
- (E) 77 m

14) A soma das raízes reais da equação $\sqrt{2}x^2 - (2\sqrt{2} + 2)x + 4 = 0$ é:

- (A) 0
- (B) $2 - \sqrt{2}$
- (C) $\sqrt{2}$
- (D) $2 + \sqrt{2}$
- (E) $4\sqrt{2}$

15) No numeral $213a46$, a letra a representa um algarismo. Se o número correspondente é divisível por 3, a soma dos algarismos que podem substituir a letra a é:

- (A) 10
- (B) 12
- (C) 15
- (D) 16
- (E) 17

Capítulo 2

Matemática 2005/2006

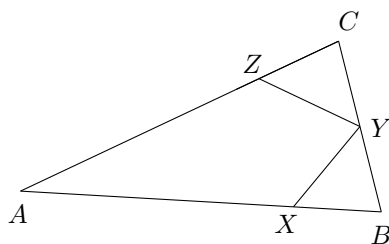
1) Um cavalo deve ser amarrado a uma estaca situada em um dos vértices de um pasto que tem a forma de um quadrado, cujo lado mede 20 m. Para que ele possa pastar em cerca de 20% da área total do pasto, a parte inteira, em metros, do comprimento da corda que o prende à estaca deve ser igual a

- (A) 1 (B) 2 (C) 5 (D) 8 (E) 10

2) Dado o seguinte problema: “Subtraindo-se 3 de um certo número x , obtém-se o dobro da sua raiz quadrada. Qual é esse número?”; pode-se afirmar que, no conjunto dos números reais, esse problema

- (A) tem duas soluções
(B) tem só uma solução, a que é um número primo
(C) tem só uma solução, a que é um número par
(D) tem só uma solução, a que é um número ímpar e não primo
(E) não tem solução

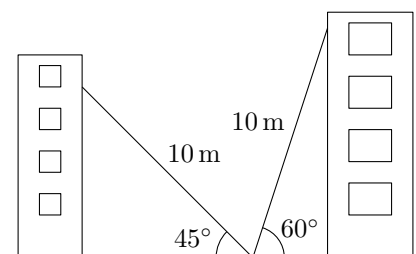
3)



Na figura acima, $AB = AC$, $BX = BY$ e $CZ = CY$. Se o ângulo A mede 40° , quanto mede o ângulo XYZ ?

- (A) 40° (B) 50° (C) 60° (D) 70° (E) 90°

4)



Uma escada de 10 metros de comprimento forma ângulo de 60° com a horizontal quando encostada ao edifício de um dos lados da rua, e ângulo de 45° se for encostada ao edifício do outro lado, apoiada no mesmo ponto do chão. A largura da rua, em metros, vale aproximadamente

(A) 15 (B) 14 (C) 13 (D) 12 (E) 11

5) Uma balança assinala 325 g para um certo copo cheio de água. Jogando-se metade da água fora, a balança passa a assinalar 180 g. Para esse copo vazio, quanto tal balança assinalará em gramas?

(A) 20 (B) 25 (C) 35 (D) 40 (E) 45

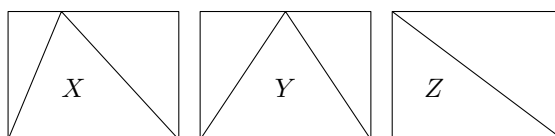
6) Numa competição de tiro-ao-alvo cada atirador deve efetuar 25 disparos. Qual a porcentagem de acertos no alvo de um jogador que obtém +0,5 pontos sabendo-se que cada tiro no alvo vale +0,4 e cada tiro fora do alvo vale -0,1?

(A) 25 (B) 24 (C) 20 (D) 16 (E) 5

7) Um feirante compra duas unidades de maçã por R\$ 0,75. Sabendo-se que ele vende o lote de seis maçãs por R\$ 3,00, quantas maçãs deverá vender para ter um lucro de R\$ 50,00?

(A) 40 (B) 52 (C) 400 (D) 520 (E) 600

8)



Considerando-se que, nas figuras acima, os triângulos X , Y e Z estejam inscritos em retângulos congruentes, pode-se afirmar que

- (A) apenas as áreas dos triângulos X e Y são iguais
- (B) apenas as áreas dos triângulos X e Z são iguais
- (C) apenas as áreas dos triângulos Y e Z são iguais
- (D) as áreas dos triângulos X , Y e Z são iguais entre si
- (E) as áreas dos triângulos X , Y e Z são diferentes entre si

9) Numa unidade da Marinha, estão lotados: 200 terceiros sargentos; 160 segundos sargentos; e n primeiros sargentos. Se n representa $2/5$ do número total de sargentos da referida unidade, pode-se afirmar que n

- (A) é múltiplo de 15 e de 8
- (B) é múltiplo de 15 e não de 8
- (C) não é múltiplo de 15, nem de 8
- (D) não é múltiplo de 15, mas é múltiplo de 8
- (E) é múltiplo de 18

10) Em uma sala retangular de piso plano nas dimensões 8,80 m por 7,60 m, deseja-se colocar lajotas quadradas iguais sem a necessidade de recortar qualquer peça. A medida máxima em centímetros, do lado de cada lajota deverá ser igual a

- (A) 10
- (B) 20
- (C) 30
- (D) 40
- (E) 50

11) Fatorando-se a expressão $ac + 2bc - ad - 2bd$, obtém-se

- (A) $(a + 2b)(c - d)$
- (B) $(a - 2b)(c - d)$
- (C) $(a - 2b)(c + d)$
- (D) $(a + c)^2(a - d)$
- (E) $(a - c)(a + 2b)$

12) Caso seja cobrado um imposto de 5% sobre o valor de qualquer saque efetuado em uma instituição financeira, qual será o saque máximo possível, em reais, a ser efetuado em uma conta cujo saldo é de 2.100,00 reais?

- (A) 1.995,00
- (B) 2.000,00
- (C) 2.050,00
- (D) 2.075,00
- (E) 2.095,00

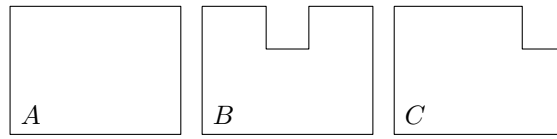
13) A maquete de um reservatório R , feita na escala 1 : 500, tem 8 mm de largura, 10 mm de comprimento e 8 mm de altura. Qual é a capacidade em litros do reservatório R ?

- (A) 640
- (B) 800
- (C) 6400
- (D) 8000
- (E) 80000

14) Em um triângulo, os lados medem 9 cm, 12 cm e 15 cm. Quanto mede, em centímetros, a altura relativa ao maior lado desse triângulo?

- (A) 8,0
- (B) 7,2
- (C) 6,0
- (D) 5,6
- (E) 4,3

15)



Considerando-se que a figura A seja um retângulo e as figuras B e C sejam obtidas, respectivamente, pela retirada da figura A de um quadrado de lado unitário, pode-se afirmar que

- (A) apenas os perímetros das figuras A e B são iguais
- (B) apenas os perímetros das figuras A e C são iguais
- (C) apenas os perímetros das figuras B e C são iguais
- (D) os perímetros das figuras A , B e C são todos iguais
- (E) os perímetros das figuras A , B e C são todos diferentes

Capítulo 3

Matemática 2006/2007

1) Um quadrado $ABCD$ tem 64 cm de perímetro. Quanto mede o lado de um quadrado cujo perímetro é o dobro do perímetro do quadrado $ABCD$?

- (A) 8 (B) 16 (C) 18 (D) 28 (E) 32

2) Qual o valor de $m + n$ para que $(x^2 + mx) \cdot (x^2 - x) + nx$ seja igual a $x^4 - 3x^3 + 7x^2$? (Lembre-se, coeficientes de termos com o mesmo grau são iguais).

- (A) 5 (B) 3 (C) 2 (D) -3 (E) -7

3) Um percurso de 40 km é feito em 8 horas numa velocidade constante de 5 km/h. Se for aumentado o percurso em 20% e a velocidade em 60%, quantas horas será necessário para fazer o novo percurso?

- (A) 3 (B) 6 (C) 8 (D) 12 (E) 15

4) $V = -3 \cdot (6 - x)$ é a expressão que representa as vendas de uma determinada mercadoria, onde x é a quantidade da mercadoria vendida. Com base nos dados apresentados é correto afirmar que a venda é positiva para

- (A) qualquer que seja x (D) $x < 6$
(B) $x = 6$ (E) $x > 6$
(C) x entre 3 e 6

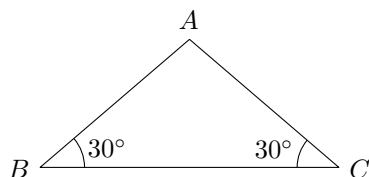
5) Quantos são os números inteiros satisfazem simultaneamente as inequações $2 \cdot (2x + 3) + 5 > 1$ e $3 \cdot (-2 + x) - 2 < 1$?

- (A) 2 (B) 3 (C) 4 (D) 5 (E) 6

6) Reduza a uma só potência a expressão $(3^{-4} \cdot 9^4 \div 3^{-6}) \div (81 \div 3^{-2})$.

- (A) 32 (B) 34 (C) 36 (D) 38 (E) 310

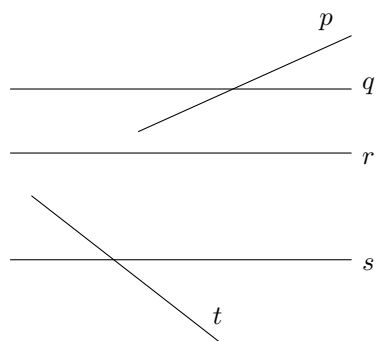
7)



Na figura acima, o segmento AB mede 2 cm. Qual o valor da área do triângulo ABC medidos em cm^2 ?

- (A) $2\sqrt{3}$ (B) $\sqrt{3}$ (C) 4 (D) 2 (E) 1

8) Observe a figura abaixo



Dados:

- p paralelo a q paralelo a r ;
- p perpendicular a t ; e
- 25° é o menor ângulo que a reta p forma com a reta q .

Com os dados apresentados, é correto afirmar que um dos ângulos que a reta t forma com a reta s é igual a

- (A) 55° (B) 75° (C) 85° (D) 110° (E) 115°

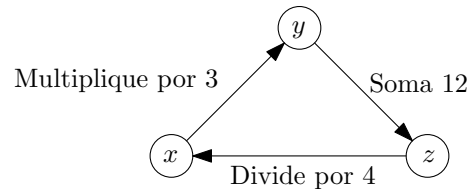
9) O lado de um losango mede $2\sqrt{5}$ cm. A diagonal menor é a metade da maior. Qual o valor da soma das diagonais em centímetros?

- (A) 3 (B) 6 (C) 10 (D) 12 (E) $6\sqrt{2}$

10) Sendo $a = \sqrt{6} + 1$ e $b = \frac{1}{\sqrt{2}} + \sqrt{3}$, qual o valor de $a^2 + b^2$?

- (A) $\frac{21}{2} + 3\sqrt{6}$ (B) $\frac{21+3\sqrt{6}}{2}$ (C) $\frac{11}{2} + 3\sqrt{6}$ (D) $11 + 3\sqrt{6}$ (E) $\frac{11}{2}$

11) Observe o circuito abaixo, onde x , y e z são números inteiros.



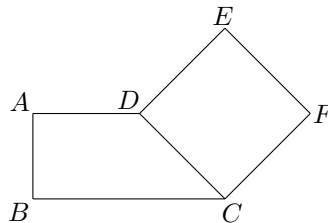
Respeitando as indicações das três setas deste circuito, determine o valor de $x + y$ e assinale a opção correta.

- (A) 24 (B) 42 (C) 48 (D) 60 (E) 84

12) Dadas as proporções $\frac{2}{x+2} = \frac{3}{2x+4}$ e $\frac{y+16}{2y+2} = 3$, calcule o valor de $y - x$ e assinale a opção correta.

- (A) -4 (B) -2 (C) 0 (D) 4 (E) 9

13) Observe a figura



Nela, $ABCD$ é um trapézio e $CDEF$, um quadrado. Sabendo que $\overline{AB} = \overline{AD} = x$ e $\overline{BC} = x + 3$, qual a expressão que representa a área da figura?

- (A) $\frac{4x^2+3x+6}{2}$ (D) $\frac{20x^2+3x}{2}$
 (B) $\frac{4x^2+15x+18}{2}$ (E) $\frac{8x^2+3x}{2}$
 (C) $\frac{4x^2+3x+18}{2}$

14) Assinale a opção que apresenta a equação que possui raízes reais distintas.

- (A) $2x^2 + 6x = 20$
 (B) $3x^2 - 12x = -12$
 (C) $-x^2 + 5x = 10$
 (D) $-2x^2 - 12x = 18$
 (E) $x^2 + 4 = 0$

15) Numa determinada “festinha”, alguns rapazes compraram 5 salgados e 3 refrigerantes pagando R\$ 13,00. Numa outra rodada, ao chegarem mais amigos, compraram 4 salgados e 4 refrigerantes pagando R\$ 12,00.

Com base nos dados apresentados, quanto deveriam pagar na compra de 2 salgados e 1 refrigerante?

- (A) R\$ 3,00 (B) R\$ 4,00 (C) R\$ 5,00 (D) R\$ 6,00 (E) R\$ 7,00

Capítulo 4

Matemática 2007/2008

- 1) Se $A = 3 - \sqrt{3}$ e $B = -1 + \sqrt{3}$, o valor de $\frac{A}{B}$ é igual a
(A) $-\sqrt{3}$ (B) $\sqrt{3}$ (C) $\frac{\sqrt{3}}{2}$ (D) $\frac{3+2\sqrt{3}}{2}$ (E) $\frac{3+\sqrt{3}}{2}$
- 2) Pedro possui R\$ 260,00. Sabe-se que 40% do que ele tem corresponde a 25% da quantia que seu primo tem. Com base nos dados apresentados, é correto afirmar que a quantia, em reais, que o primo de Pedro possui é de
(A) 26 (B) 65 (C) 104 (D) 260 (E) 416
- 3) O valor da expressão numérica: $[(4 + 5) + 3 \cdot 7] \div (5 \cdot 1 + 5) + (60 - 5 \cdot 12)$
(A) 3 (B) 8 (C) 25 (D) 33 (E) 63
- 4) Uma corda de 20 metros de comprimento foi cortada em dois pedaços de tamanhos diferentes. Os pedaços foram usados para fazer dois quadrados. Sabendo que a diferença entre as áreas é igual a 5 m^2 , é correto afirmar que a área do quadrado maior, em metros quadrados, é igual a
(A) 1 (B) 2 (C) 4 (D) 7 (E) 9
- 5) Quanto se deve dar de entrada, em reais, numa bicicleta de R\$ 1.130,00 para pagar a parte restante em quatro prestações iguais de R\$ 204,00?
(A) 926 (B) 816 (C) 340 (D) 314 (E) 280
- 6) Em relação a Mudanças de Unidades, assinale a opção correta.
(A) $6 \text{ m} + 5 \text{ cm} = 65 \text{ cm}$
(B) $2,2 \text{ dm} + 4,5 \text{ m} = 6,7 \text{ m}$
(C) $7,3 \text{ m} - 46 \text{ cm} = 684 \text{ cm}$
(D) $0,56 \text{ m} + 0,18 \text{ m} = 7,4 \text{ cm}$
(E) $2 \text{ dm} + 32,5 \text{ cm} = 3,45 \text{ m}$

7) A raiz da equação $3x^2 - 13x - 10 = 0$ representa a medida em centímetros do lado de um quadrado. Quanto mede em centímetros quadrados, a área desse quadrado?

- (A) 20
- (B) 25
- (C) 30
- (D) 36
- (E) 225

8) O MMC dos polinômios $3x^2 + 6x$ e $x^3 + 4x^2 + 4x$ é igual a

- (A) x^2
- (B) $3x(x + 2)^2$
- (C) $x(x + 2)$
- (D) $3(x + 2)$
- (E) $x(x + 2)^2$

9) Em uma determinada calculadora, não funciona a tecla da divisão. Sendo assim, para dividir um número por 25 nessa calculadora, deve-se

- (A) Subtrair 15
- (B) Somar 0,4
- (C) Multiplicar por 0,25
- (D) Multiplicar por 0,04
- (E) Multiplicar por 0,4

10) Um robô de brinquedo dá passos de 2 centímetros. A partir de ponto A, ele caminha 8 passos para frente, gira 90° para a esquerda, dá mais 6 passos em a frente e pára em um ponto B. Qual a medida, em centímetros, do segmento AB?

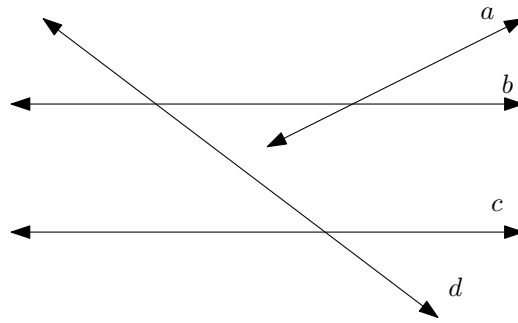
- (A) 10
- (B) 14
- (C) 20
- (D) 25
- (E) 28

11) Observe a figura abaixo.

Dados:

- b é paralelo a c
- a é perpendicular a d
- 40° é o menor ângulo que a reta d forma com a reta c

Com os dados apresentados, é correto afirmar que o maior ângulo formado da reta a com a reta b é igual a



- (A) 50° (B) 55° (C) 60° (D) 80° (E) 130°

12) Em um paralelogramo, dois lados consecutivos medem 16 cm e 10 cm e o ângulo obtuso interno 150° . Determine, em centímetros quadrados, a área do paralelogramo.

- (A) 50 (B) $50\sqrt{2}$ (C) 80 (D) 128 (E) 160

13) O valor de $A = [(x^2 - 2x + 4)(x + 2) - (x^3 + x^2 + 8)]$ é igual a

- (A) $-x^2$ (B) x^2 (C) $2x^3 - x^2$ (D) $-x^2 + 8x$ (E) 16

14) Uma torneira com vazamento de 20 gotas por minuto, desperdiça, em 30 dias, 100 litros de água. A mesma torneira vazando 45 gotas por minuto, durante 20 dias, desperdiçará quantos litros de água?

- (A) 66 (B) 120 (C) 150 (D) 180 (E) 337

15) Um agente secreto enviou ao seu superior uma mensagem informando o número de submarinos do inimigo.

A mensagem era: $7a + 8 > 236$ e $11 - \frac{5a}{3} > -45$.

De acordo com a mensagem, é correto afirmar que a quantidade de submarinos era em número de

- (A) 30 (B) 31 (C) 32 (D) 33 (E) 34

Capítulo 5

Matemática 2008/2009

1) Um feirante compra 3 maçãs por R\$ 2,30 e vende 5 maçãs por R\$ 4,50. Para obter um lucro de R\$ 10,00, ele deverá vender uma quantidade de maçãs igual a
(A) 60 (B) 65 (C) 70 (D) 75 (E) 80

2) Na compra de um ventilador que custa R\$ 150,00, uma pessoa dá 8,5% de entrada e o restante vai pagar em cinco parcelas iguais. Qual o valor de cada parcela?
(A) 27,45 (B) 27,65 (C) 28,35 (D) 28,50 (E) 29,25

3) O valor da expressão

$$\frac{0,555\dots - \sqrt{0,25}}{\left(\frac{2}{3}\right)^2 \cdot 10^{-1}}$$

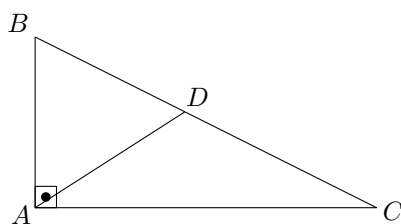
é

- (A) 0,75
- (B) 0,85
- (C) 0,95
- (D) 1,15
- (E) 1,25

4) Se $\frac{a}{b} = \frac{1}{2}$ o valor de $\left(\frac{a+b}{a-b}\right)^2$ é:
(A) 4 (B) 9 (C) 16 (D) 25 (E) 36

5) Um caminhão pode transportar um limite de peso que corresponde a 75 sacos de cimento ou 3000 tijolos. Se esse caminhão já contém 40 sacos de cimento, quantos tijolos, no máximo, ele ainda pode carregar?
(A) 1150 (B) 1200 (C) 1250 (D) 1400 (E) 1600

6) Observe a figura abaixo.



O triângulo ABC é retângulo em A e o triângulo ABD é equilátero. Se a medida de \overline{BC} é 12, o comprimento de \overline{AB} é

- (A) 5 (B) 6 (C) 7 (D) 8 (E) 9

7) O retângulo de dimensões $(4x - 2)$ cm e $(x + 3)$ cm. O perímetro desse retângulo, em centímetros, mede

- (A) 48 (B) 52 (C) 60 (D) 74 (E) 80

8) Para que os números $\frac{K}{2}$, $\frac{K}{3}$, $\frac{K}{4}$ e $\frac{K}{5}$ sejam inteiros, o menor valor de K inteiro positivo é

- (A) 20 (B) 30 (C) 40 (D) 50 (E) 60

9) Em um triângulo retângulo isósceles, a hipotenusa tem por medida $5\sqrt{2}$ cm. A soma das medidas dos catetos, em centímetros, é

- (A) 6 (B) 8 (C) 9 (D) 10 (E) 12

10) Se $A = 2 + \sqrt{3}$ e $B = \frac{2}{\sqrt{3}-1}$, o valor de $A - B$ é igual a

- (A) $-\sqrt{3}$ (B) -1 (C) 1 (D) $\sqrt{3}$ (E) 3

11) Reduzindo-se os termos semelhantes da expressão

$$b(a - b) + (b + a)(b - a) - a(b - a) + (b - a)^2$$

obtem-se

- (A) $(a - b)^2$
 (B) $(a + b)^2$
 (C) $b^2 - a^2$
 (D) $a^2 - b^2$
 (E) $a^2 + b^2$

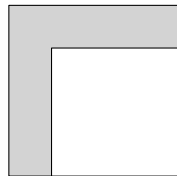
12) O valor de x que torna verdadeira a igualdade $3 - \frac{1}{1-\frac{1}{x}} = 1$, é

- (A) -2 (B) -1 (C) 2 (D) 3 (E) 4

Capítulo 6

Matemática 2009/2010

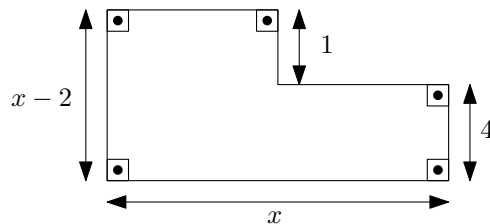
1) Observe a figura plana a seguir.



Na figura, tem-se dois quadrados. O maior tem 5 cm de lado, e o menor, 3 cm. A área da região hachurada, em cm^2 , é

- (A) 16 (B) 17 (C) 18 (D) 20 (E) 25

2) Observe a figura abaixo.



Assinale a opção que indica o seu perímetro.

- (A) 24 (B) 21 (C) 17 (D) 14 (E) 10

3) O valor de $\sqrt[3]{\frac{(a+b)ab}{a-b}}$ para $a = 12$ e $b = 6$ é

- (A) 5 (B) 6 (C) 7 (D) 8 (E) 9

Capítulo 7

Matemática 2010/2011

1) Sabendo que 1 *grosa* é equivalente a 12 dúzias, é correto afirmar que dez *grossas* são equivalentes a quantas unidades?

- (A) 1200 (B) 1440 (C) 1500 (D) 1680 (E) 2440

2) Na hora do almoço Leonardo fala aos seus colegas: “Tenho exatamente 20 moedas no bolso, de R\$ 0,10 e R\$ 0,50, que somam R\$ 5,20”. E os desafia: “Quantas moedas de R\$ 0,10 eu tenho?” Quantas moedas de R\$ 0,10 Leonardo possui?

- (A) 2 (B) 7 (C) 8 (D) 12 (E) 17

3) Suponha que uma pessoa corra em uma esteira 4500 m em 900 minutos. Sabendo que a velocidade é a razão do espaço pelo tempo decorrido, determine a velocidade desenvolvida por essa pessoa, supondo que essa velocidade seja constante.

- (A) 5,0 km/h (B) 2,5 km/h (C) 1,5 km/h (D) 0,8 km/h (E) 0,3 km/h

4) Uma TV em cores de LCD custa, a prazo, R\$ 2.300,00. Para pagamento à vista, seu valor é 20% mais barato em relação ao seu preço a prazo. Qual o preço à vista dessa TV?

- (A) R\$ 4.000,00
(B) R\$ 2.100,00
(C) R\$ 2.040,00
(D) R\$ 1.900,00
(E) R\$ 1.840,00

5) Se o produto $(x - 3)(x + 1)$ tem o mesmo resultado de $5x - 13$, então o valor de x é sempre:

- (A) Par (B) Primo (C) Múltiplo de 5 (D) Múltiplo de 13 (E) Ímpar

6) Seja x , y e z os lados de um triângulo retângulo. Sabendo que y é a medida do maior lado então

(A) $y^2 = x^2 + 2z^2$

(B) $y^2 = 2x^2 + 2z^2$

(C) $2y^2 = x^2 + z^2$

(D) $y^2 = x^2 + z^2$

(E) $y^2 = 2x^2 + z^2$

7) O valor da expressão $\frac{x^3+x^2-4x-4}{(x+1)(x-2)}$ quando $x = 987$ é:

(A) 987

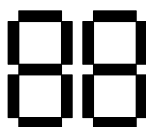
(B) 988

(C) 989

(D) 990

(E) 991

8) A figura a seguir é composta por 14 palitos divididos igualmente em dois dígitos, como no visor de uma calculadora. Retirando dessa figura exatamente 3 palitos, qual o maior número que é possível formar?



(A) 90

(B) 92

(C) 93

(D) 95

(E) 99

9) Uma tora de madeira mais meia tora de madeira com as mesmas dimensões tem massa 27 kg. Qual a massa de cada tora dessas madeiras?

(A) 14 kg

(B) 15 kg

(C) 16 kg

(D) 17 kg

(E) 18 kg

10) Que número deve ser adicionado a 2009^2 para obter 2010^2 ?

(A) 8019

(B) 6010

(C) 4019

(D) 3019

(E) 2010

11) Sejam S e P a soma e o produto, respectivamente, das raízes da equação $x^2 - 5x + 6$. O valor do produto SP é:

(A) 30

(B) 40

(C) 50

(D) 60

(E) 70

12) Em um triângulo ABC , o ângulo interno em A é o dobro do ângulo interno em B . Sabendo que o ângulo interno em C é o triplo do ângulo interno em A , o menor ângulo interno deste triângulo é

(A) 30

(B) 25

(C) 20

(D) 15

(E) 10

13) $ABCD$ é um quadrado de lado 12 m. Unindo os pontos médios dos lados deste quadrado é obtido um quadrilátero de área igual a:

- (A) 72 m^2 (B) 68 m^2 (C) 64 m^2 (D) 56 m^2 (E) 45 m^2

14) O perímetro de um triângulo de lados inteiros é igual a 12 m. O maior valor possível para um dos lados deste triângulo tem medida igual a

- (A) 5 (B) 6 (C) 7 (D) 8 (E) 9

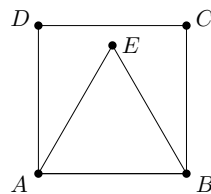
15) Uma copiadora XL2010 produz 12000 cópias em 12 horas. Quantas copiadoras XL2010 seriam necessárias para imprimir as 12000 cópias em 4 horas?

- (A) 2 (B) 3 (C) 4 (D) 5 (E) 6

Capítulo 8

Matemática 2011/2012

1) Observe a figura abaixo.



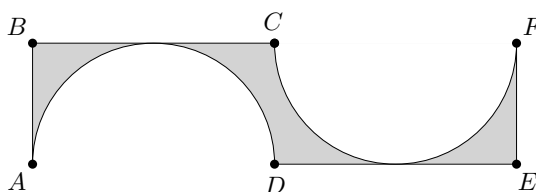
Na figura apresentada, $ABCD$ é um quadrado e ABE é um triângulo equilátero. Nestas é correto afirmar que o triângulo AED é

- (A) retângulo em E
- (B) escaleno e com ângulo $\widehat{AED} = 60^\circ$
- (C) isósceles e com ângulo $\widehat{AED} = 75^\circ$
- (D) acutângulo e com ângulo $\widehat{AED} = 65^\circ$
- (E) obtusângulo e com ângulo $\widehat{AED} = 105^\circ$

2) Somando todos os números inteiros desde -50 , inclusive, até 51 , inclusive, obtém-se:

- (A) -50
- (B) -49
- (C) 0
- (D) 50
- (E) 51

3) Analise a representação a seguir.



Na figura acima, $AD = CF = 6$ cm são diâmetros de círculos que tangenciam os segmentos de reta BC e DE , nesta ordem. A área da figura acinzentada, em cm^2 , é:

- (A) $36 - 12\pi$ (B) $36 - 9\pi$ (C) $18 - 12\pi$ (D) $18 - 9\pi$ (E) $9 - \pi$

4) Sabendo que o número $3045X8$ é divisível por 3, a soma de todos os valores que X pode assumir é:

- (A) 12 (D) 9
 (B) 11 (E) 8
 (C) 10

5) Uma prova possui 15 questões de múltipla escolha, tem valor total igual a 10 e cada tem o mesmo valor. Se um aluno acerta 6 destas 15 questões, qual a nota desse aluno nessa avaliação?

- (A) 4,6 (D) 4,0
 (B) 4,4 (E) 3,8
 (C) 4,2

6) Elevando-se o polinômio $\frac{7}{11}x^3 - \sqrt{5}$ quinta potência, obtém-se um polinômio cujo grau é:

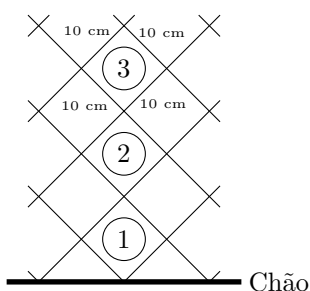
- (A) 3 (B) 8 (C) 12 (D) 15 (E) 21

7) Se $2x + 13 = 4y + 9$, então o valor de $6x - 6$ é

- (A) $12y - 18$ (B) $10y - 10$ (C) $8y - 12$ (D) $6y - 10$ (E) $4y - 8$

8) O resultado da expressão $\sqrt{96 + \sqrt{7 + \sqrt{81}}}$ é:

- (A) 18 (D) 12
 (B) 16 (E) 10
 (C) 14



9) Observe a figura.

Na figura acima, observa-se a representação de três níveis da grade de uma cerca quadriculada, cujos quadrados tem lados de 10 cm. No total, esta cerca, é composta de 20 níveis iguais aos que foram representados acima. Qual a altura aproximada, em metros, dessa cerca de 20 níveis?

Dados: Se necessário, utilize $\sqrt{2} = 1,4$; $\sqrt{3} = 1,7$.

- (A) 3,4 (D) 2,5
(B) 3,1 (E) 2,2
(C) 2,8

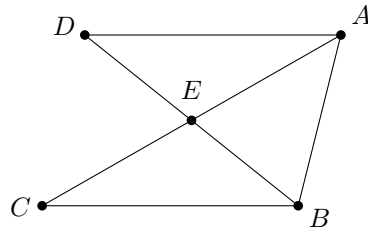
10) Dentre as pessoas na sala de espera de um consultório médico, em um determinado momento, uma falou: “Se juntarmos a nós a metade de nós e o médico, seríamos 16 pessoas”. Nesse momento, o número de pessoas aguardando atendimento é:

- (A) 5
(B) 8
(C) 9
(D) 10
(E) 12

11) Uma pessoa comprou 350 m de arame farpado para cercar seu terreno que tem a forma de um retângulo de lados 12 m e 30 m. Ao contornar todo o terreno uma vez, a pessoa deu a primeira volta no terreno. Quantas voltas completas, no máximo, essa pessoa pode dar nesse terreno antes de acabar o arame comprado?

- (A) 2 (D) 5
(B) 3 (E) 6
(C) 4

12) Analise a figura abaixo.



Na figura apresentada, quantos são os triângulos distintos, com vértices em A , B , C , D ou E , e que estão com todos os seus lados representados na figura?

- (A) 1 (B) 2 (C) 3 (D) 4 (E) 5

13) O valor da expressão $(0,11)^2 + 2 \cdot (0,11) \cdot (0,89) + (0,89)^2$ é

- (A) 0 (B) 1 (C) 2 (D) 3 (E) 4

14) Observe a resolução de um aluno para a expressão $(\frac{1}{2})^{-2} + (-2)^2 - 2^2$.

- LINHA 1: $(\frac{1}{2})^{-2} + (-2)^2 - 2^2$
- LINHA 2: $\underbrace{(2^2) + (-2)^2}_{=0} - 2^2$
- LINHA 3: -2^2
- LINHA 4: $-(2 \cdot 2)$
- LINHA 5: -4

Constatou-se acertadamente, que o aluno errou a primeira vez ao escrever a LINHA:

- (A) 1 (B) 2 (C) 3 (D) 4 (E) 5

15) Uma bicicleta tem a roda da frente com 1 m de raio, enquanto a roda da traseira tem a metade do raio da outra. Quando a menor percorrer 1 km, a maior percorrerá

- (A) 1,0 km (B) 0,8 km (C) 0,7 km (D) 0,6 km (E) 0,5 km

Capítulo 9

Matemática 2012/2013

1) Uma aeronave decola fazendo, com a pista plana e horizontal, um ângulo de elevação de 30° . Após percorrer 1,2 km, a aeronave se encontra em relação ao solo, a uma altura igual a

- (A) 900 m (B) 600 m (C) 500 m (D) 400 m (E) 300 m

2) Sendo a e b raízes reais da equação $x^2 - 4x + 2 = 0$, o valor numérico de $(ab^2 + a^2b)$ é:

- (A) 1 m (B) 4 m (C) 5 m (D) 6 m (E) 8 m

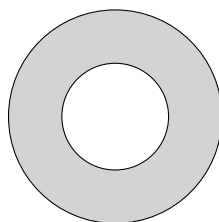
3) A solução da equação irracional $\sqrt{1 + 4x} + x - 1 = 0$ é:

- (A) $\{0\}$ (B) $\{6\}$ (C) $\{0, 4\}$ (D) $\{0, 5\}$ (E) $\{0, 6\}$

4) Se seis torneiras iguais enchem um tanque em 420 minutos, em quantos minutos dez torneiras iguais às anteriores enchem este tanque?

- (A) 240 m (B) 245 m (C) 250 m (D) 252 m (E) 260 m

5) A figura apresenta duas circunferências concêntricas.



Sendo o raio da menor igual a 2 cm e o raio da maior igual a 0,4 dm, quanto mede a área da coroa circular sombreada?

- (A) $12\pi \text{ cm}^2$ (B) $15\pi \text{ cm}^2$ (C) $17\pi \text{ cm}^2$ (D) $19\pi \text{ cm}^2$ (E) $21\pi \text{ cm}^2$

- 6) Duas retas paralelas r e s são cortadas por uma reta transversal t , formando, no mesmo plano, dois ângulos obtusos alternos internos que medem $(\frac{x}{2} + 30^\circ)$ e $(\frac{3x}{5} + 15^\circ)$. Então o suplemento de um desses ângulos mede
(A) 75° (B) 80° (C) 82° (D) 85° (E) 88°
- 7) Na equação $\frac{(a+b)^2 - a - b}{a^2 + ab - a} = 3$, sendo a e b não nulos, o valor de $\frac{a}{b}$ é:
(A) 0,8 (B) 0,7 (C) 0,5 (D) 0,4 (E) 0,3
- 8) Simplificando a expressão $E = (\sqrt{2 + \sqrt{3}}) \cdot (\sqrt{2 - \sqrt{3}})$, que valor obtém-se para E ?
(A) 4 (B) 3 (C) 2 (D) 1 (E) 0
- 9) Os valores numéricos do quociente e do resto da divisão de $p(x) = 5x^4 - 3x^2 + 6x - 1$ por $d(x) = x^2 + x + 1$, para $x = -1$ são, respectivamente,
(A) -7 e -12 (B) -7 e 14 (C) 7 e -14 (D) 7 e -12 (E) -7 e 12
- 10) A área do triângulo retângulo de lados 1,3 dm, 0,05 m e 0,012 dam é
(A) 28 cm^2 (B) 30 cm^2 (C) 32 cm^2 (D) 33 cm^2 (E) 34 cm^2
- 11) O valor de $k > 0$ na equação $x^2 + 2kx + 16 = 0$, de modo que a diferença entre suas raízes seja 6, é
(A) 2 (B) 3 (C) 4 (D) 5 (E) 7
- 12) Os ângulos internos de um triângulo são diretamente proporcionais a 2, 7 e 9. Então o menor ângulo interno desses triângulo mede
(A) 90° (B) 80° (C) 70° (D) 40° (E) 20°
- 13) Uma pessoa que tem, na mão direita, certo número x de moedas, e, na mão esquerda, 9 a mais que na direita leva três moedas da mão direita para a mão esquerda, ficando com 30 moedas nesta mão. De acordo com o exposto, x vale
(A) 24 (B) 20 (C) 18 (D) 13 (E) 12
- 14) O tempo, em meses, necessário para triplicar um determinado capital, a uma taxa de 5% ao mês, no regime de juros simples é
(A) 40 (D) 60
(B) 45 (E) 80
(C) 50
- 15) Uma geladeira de R\$ 1.250,00 passou a custar R\$ 1.100,00 para pagamento à

vista. O preço desta geladeira teve, portanto, um desconto de

- (A) 14% (B) 13% (C) 12% (D) 11% (E) 10%

Capítulo 10

Matemática 2013/2014

1) Caso uma televisão de R\$ 915,00 esteja sendo vendida com um desconto de 28%, quanto se pagará por ela?

- (A) R\$ 256,20
- (B) R\$ 649,80
- (C) R\$ 658,80
- (D) R\$ 769,80
- (E) R\$ 889,80

2) Qual a representação do número 745 em algarismos romanos?

- (A) CDXLV
- (B) DCCXLV
- (C) DCCXV
- (D) CDXV
- (E) DCCCXXV

3) O valor de $X = (20 - 4 \div 2) + (8 \cdot 4 - 2)$ é igual a

- (A) 24
- (B) 38
- (C) 40
- (D) 46
- (E) 48

4) Qual o conjunto-solução da equação $7x + p = 3x + 7p$, sendo x a incógnita?

- (A) $\{2p\}$
- (B) $\{\frac{3p}{5}\}$
- (C) $\{6p\}$
- (D) $\{\frac{2p}{3}\}$
- (E) $\{\frac{3p}{2}\}$

5) Sabendo que um determinado serviço é feito, por três marinheiros, em duas horas, em quantos minutos o mesmo serviço será feito por quatro marinheiros?

- (A) 90
- (B) 95
- (C) 100
- (D) 110
- (E) 120

6) Entre os números naturais 25 e 42, há quantos números primos?

- (A) 5
- (B) 4
- (C) 3
- (D) 2
- (E) 1

7) Considere que o triângulo ABC é retângulo. Sabendo que $\widehat{A} = 90^\circ$, $\overline{AB} = 12$ cm e $\overline{AC} = 5$ cm, qual é o perímetro, em centímetros, desse triângulo?

- (A) 20 (B) 30 (C) 40 (D) 50 (E) 140

8) Se $A = 2 - \frac{1}{4}$ e $B = 5 + \frac{1}{2}$, o valor de $A \div B$ é igual a:

- (A) $\frac{7}{44}$ (B) $\frac{22}{7}$ (C) $\frac{7}{11}$ (D) $\frac{7}{22}$ (E) $\frac{77}{8}$

9) Sabendo que um prato, de forma circular, possua um raio igual a 12 cm, qual é o comprimento, em centímetros, de circunferência desse prato?

Dado: $\pi = 3,1$

- (A) 37,20 (B) 44,64 (C) 64,40 (D) 74,40 (E) 80,40

10) Qual o valor de $Y = \sqrt{32} - \sqrt{8}$?

- (A) 1 (B) $\sqrt{2}$ (C) $6\sqrt{2}$ (D) $2\sqrt{6}$ (E) $2\sqrt{2}$

11) Caso se vendam 105 picolés num primeiro dia de trabalho, no segundo, 109 e no terceiro, 118, quantos picolés ainda precisam ser vendidos para se chegar a um total de 400?

- (A) 48 (B) 58 (C) 68 (D) 78 (E) 88

12) Em relação ao conjunto dos números inteiros, qual é o conjunto-solução da equação $3x - 4 = 2$?

- (A) $\{0\}$ (B) $\{1\}$ (C) $\{2\}$ (D) $\{3\}$ (E) $\{4\}$

13) Se $A = 10^\circ 20' 30''$ e $B = 30^\circ 50' 10''$, é correto afirmar que o valor de $A + B$ é igual a

- (A) $20^\circ 30' 20''$
(B) $40^\circ 59' 40''$
(C) $41^\circ 30' 40''$
(D) $41^\circ 10' 40''$
(E) $51^\circ 10' 40''$

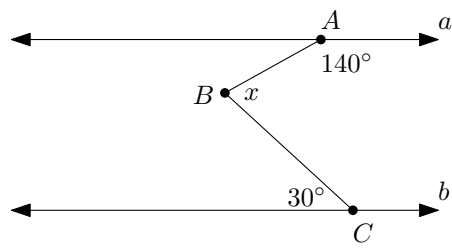
14) Qual o valor de k , para que a equação $3x^2 - 2x + k = 0$ possua raízes reais e iguais?

- (A) $\frac{1}{3}$ (B) $\frac{2}{3}$ (C) 3 (D) $-\frac{1}{3}$ (E) -3

15) Observe a figura abaixo.

Sabendo que a reta a é paralela à reta b , pode-se afirmar que, a partir dos dados da figura acima, o valor do ângulo x é igual a

- (A) 10° (B) 30° (C) 50° (D) 70° (E) 100°



Capítulo 11

Matemática 2014/2015

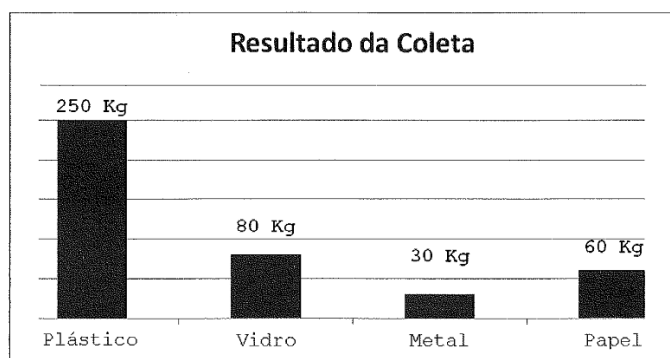
1) A raiz da equação $2 \cdot (3x + 2) = 2 \cdot (4 - x)$ é um número racional

- (A) compreendido entre 0 e 1
- (B) compreendido entre -1 e 0
- (C) menor que -1
- (D) maior que 1
- (E) igual a 1

2) Em uma divisão entre dois números inteiros o quociente é 8, o divisor é 12 e o resto é o maior possível. Logo, o dividendo será:

- (A) 20
- (B) 96
- (C) 106
- (D) 107
- (E) 108

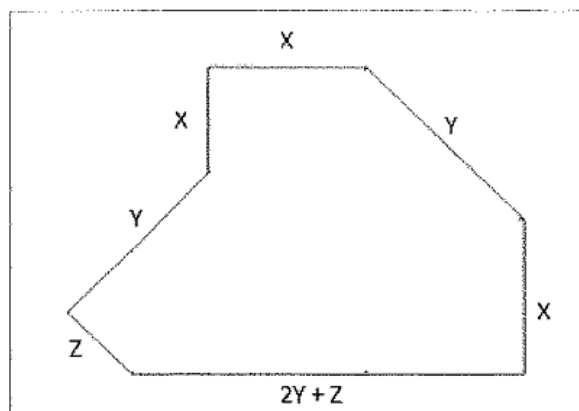
3) O gráfico a seguir apresenta o resultado de uma coleta seletiva de lixo realizada por uma empresa de limpeza urbana em uma determinada praia do litoral brasileiro.



De acordo com o gráfico acima, a fração irredutível que representa a quantidade de papel encontrado em relação à quantidade de lixo recolhido foi:

- (A) $\frac{5}{6}$
- (B) $\frac{2}{3}$
- (C) $\frac{3}{5}$
- (D) $\frac{3}{8}$
- (E) $\frac{1}{7}$

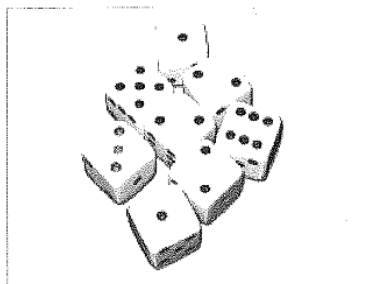
10) Analise a figura a seguir.



Suponha que o terreno comprado por um proprietário tenha a forma da figura acima e suas medidas sejam representadas, em unidades de comprimento pelas variáveis X , Y e Z . A expressão algébrica que representa o perímetro desse terreno é:

- (A) $2X + 3Y + Z$
- (B) $3X + 4Y + 2Z$
- (C) $3X + 3Y + Z$
- (D) $3X + 2Y + 3Z$
- (E) $4X + 3Y + 2Z$

11) Observe a figura a seguir.



Um dado é dito “normal” quando faces opostas somam sete. Dessa forma, a face do número 1 é oposta à face de número 6, a face do número 2 é oposta a de número 5, e a de número 3 é oposta a de número 4. Um jogador lança 8 dados normais sobre uma mesa e observa todas as faces superiores conforme a figura acima. Sendo assim, pode-se afirmar que o somatório das faces opostas às faces superiores dos dados que se encontram na figura é:

- (A) 56
- (B) 42
- (C) 34
- (D) 28
- (E) 14

12) A seca no nordeste brasileiro é um dos principais problemas que o Brasil enfrenta há anos. Muitas famílias que vivem com essa realidade necessitam armazenar água em reservatórios ou até mesmo andar vários quilômetros em busca de água. Um agricultor fez a aquisição de um reservatório em forma de um bloco retangular de dimensões 2,0 m de comprimento, 1,5 m de largura e 1 m de altura que será utilizado para o armazenamento de água. Qual o volume de água, em litros, desse reservatório?

- (A) 500 (B) 600 (C) 1000 (D) 3000 (E) 3500

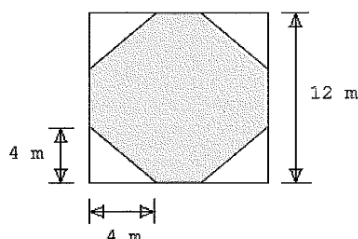
13) Analise a sequência a seguir.



Efetuando as operações indicadas na sequência acima, pode-se afirmar que o número escrito no último retângulo será:

- (A) -16 (B) -14 (C) -12 (D) 8 (E) 10

14) Observe a figura a seguir



Essa figura representa uma praça de eventos na forma de um quadrado de 12 m de lado que teve seu piso revestido com cerâmica branca e cinza. A região revestida pela cerâmica branca foi obtida construindo quatro triângulos retângulos com catetos medindo 4 m em cada uma das extremidades. Quantos metros quadrados de cerâmica cinza foram utilizados na construção dessa praça?

- (A) 64 (B) 72 (C) 80 (D) 100 (E) 112

15) Quanto vale a metade de 2^{2014} ?

- (A) 2^2 (B) 2^7 (C) 2^{1007} (D) 2^{2013} (E) 2^{2015}

Capítulo 12

Matemática 2015/2016

1) Considere que um senhor deseja cercar um terreno retangular de 200 m^2 de área, utilizando 60 metros de arame. Sendo assim, é correto afirmar que o comprimento e a largura, deste terreno, são respectivamente

- (A) 50 m e 4 m
- (B) 40 m e 5 m
- (C) 25 m e 8 m
- (D) 20 m e 10 m
- (E) 16 m e 12,5 m

2) Considere que “ A ” é o conjunto dos números inteiros positivos múltiplos de 3, “ B ” é o conjunto dos números inteiros positivos múltiplos de 5 e “ C ” é o conjunto dos números inteiros positivos múltiplos de 12. Sabendo que “ D ” é o conjunto dos números inteiros formado pela interseção dos três conjuntos, ou seja, D é o conjunto dos números inteiros comuns aos três conjuntos, é correto afirmar que “ D ” é o conjunto dos números inteiros formado pelos múltiplos de:

- (A) 10
- (B) 12
- (C) 30
- (D) 48
- (E) 60

3) Os investimentos a juros simples são diretamente proporcionais ao valor do capital inicialmente aplicado e também à quantidade de tempo que o valor fica investido. Ou seja, a taxa de juros simples é sempre aplicada ao capital inicial. Sendo assim, um capital será triplicado ao ser aplicada uma taxa percentual de 5% ao mês depois de:

- (A) 4 meses
- (B) 30 meses
- (C) 3 anos e 4 meses
- (D) 4 anos
- (E) 5 anos

4) Em uma circunferência de diâmetro 40 cm, é traçada uma corda de 24 cm de comprimento. Logo, a distância do centro da circunferência à corda é de:

- (A) 8 cm
- (B) 12 cm
- (C) 16 cm
- (D) 20 cm
- (E) 22 cm

5) Deseja-se revestir com azulejos uma parede sem aberturas, com 8 metros de comprimento por 3 metros de altura. Sabendo que os azulejos têm dimensões 40×40 cm e que há uma perda de 10% na colocação dos mesmos, qual a quantidade de azulejos que se deve adquirir para revestir a parede?

- (A) 176 (B) 165 (C) 160 (D) 150 (E) 24

6) O produto $(\sqrt{3} - \sqrt{2}) \cdot (\sqrt{3} + \sqrt{2})$ é igual a

- (A) 6 (B) 1 (C) 0 (D) -1 (E) -6

7) Um ciclista faz um percurso em 4 horas a uma velocidade constante de 9 km por hora. Se o ciclista dobrar sua velocidade, qual será o tempo necessário para percorrer o mesmo trajeto?

- (A) 1 hora (B) 2 horas (C) 3 horas (D) 4 horas (E) 5 horas

8) A área de um círculo é igual a 121π cm². O raio deste círculo, em cm, mede:

- (A) 121 (B) 60,5 (C) 21 (D) 11 (E) 5,5

9) A soma das raízes da equação $4x^2 - 11x + 6 = 0$ é:

- (A) $\frac{11}{4}$ (B) 11 (C) 6 (D) $\frac{3}{2}$ (E) 4

10) $\sqrt{75}$ é equivalente a:

- (A) 37,5 (B) 75 (C) $5\sqrt{5}$ (D) $3\sqrt{5}$ (E) $5\sqrt{3}$

11) O valor da expressão $5 - 3 + 2 \cdot 4 - 1$ é:

- (A) 17 (B) 13 (C) 9 (D) 8 (E) -17

12) Para que a expressão $\sqrt{2x - 3}$ seja número real deve-se ter:

- (A) $x \geq \frac{3}{2}$ (B) $x \leq \frac{2}{3}$ (C) $x \geq \frac{2}{3}$ (D) $x \geq -3$ (E) $x \leq \frac{3}{2}$

13) A altura de um triângulo equilátero mede 12 cm. O lado deste triângulo, em cm, é:

- (A) 8 (B) 12 (C) $8\sqrt{3}$ (D) $12\sqrt{3}$ (E) $16\sqrt{3}$

14) Um avião decola de um aeroporto e sobe segundo um ângulo constante de 15° com a horizontal. Na direção do percurso do avião, a 2 km do aeroporto, um garoto observa o avião sobre ele. Qual a altura do avião neste momento?

Dados: $\sin 15^\circ = 0,26$, $\cos 15^\circ = 0,96$, $\tan 15^\circ = 0,27$

- (A) 960 m (B) 540 m (C) 260 m (D) 96 m (E) 26 m

15) Qual a medida do menor ângulo formado pelos ponteiros de um relógio às

15 horas e 20 minutos?

(A) 12°

(B) 15°

(C) 20°

(D) 30°

(E) 35°

Parte II

Soluções

Capítulo 13

Matemática 2004/2005

Questão 1

Solução: Solucionando a equação do 2º grau em questão:

$$-2x^2 + 32x - 56 = 0$$

Daí:

$$\Delta = 32^2 - 4 \cdot (-2) \cdot (-56)$$

Logo:

$$\Delta = 1024 - 448 \Rightarrow \Delta = 576$$

Continuando:

$$x_{1,2} = \frac{-(32) \pm \sqrt{576}}{2 \cdot (-2)}$$

O que nos dará duas soluções:

$$\begin{cases} x_1 = \frac{-32+24}{-4} \Rightarrow x_1 = \frac{-8}{-4} \Rightarrow x_1 = 2 \\ x_2 = \frac{-32-24}{-4} \Rightarrow x_2 = \frac{-56}{-4} \Rightarrow x_2 = 14 \end{cases}$$

Como a unidade está em milhares temos 2000 ou 14000.

Opção A

Questão 2

Solução: Primeiro, prolongamos \overline{DE} até encontrar \overline{QO} ; como $\overline{DE} \parallel \overline{OP}$ temos $\widehat{CDE} \cong \widehat{PQO} = 35^\circ$. Tracemos ainda uma paralela a \overline{DE} – e, consequentemente paralela à \overline{AB} – passando por C , como vemos na figura 13.1.

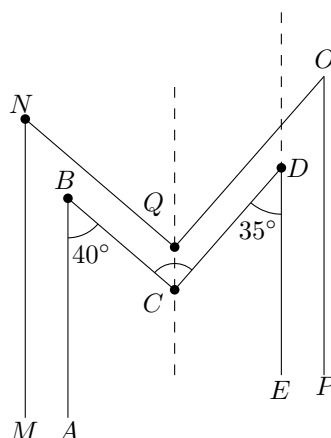


Figura 13.1: Traçamos uma paralela a DE e a AB , passando pelo ponto C .

Observação: Não necessariamente esta nova paralela passará por Q .

Agora, fica fácil perceber que o ângulo \widehat{BCD} é a soma $40^\circ + 35^\circ$, pois estes ângulos são alternos internos das paralelas \overline{AB} e \overline{DE} respectivamente.

Opção E

Questão 3

Solução: Passando a capacidade do reservatório para litros teremos $5,4\text{ m}^3 = 5400\text{ dm}^3 = 5400$ litros. Basta, então, resolver a regra de três:

Litros	—	Tempo (min)
15	—	1
5400	—	x

Daí:

$$x = \frac{5400}{15} \Rightarrow x = 360 \text{ minutos}$$

Opção C

Questão 4

Solução: O que temos neste problema é uma porcentagem de uma porcentagem, pois 40% dos 21% (dos 10.000 que participaram da pesquisa) que usaram acupuntura pararam de fumar, ou seja $\frac{40}{100} \cdot \frac{21}{100} \cdot 10000 = 40 \cdot 21 = 840$ pessoas.

Opção A

Questão 5

Solução: A área S que desejamos calcular, na verdade é a de um quadrado de lado 8, subtraída de um semi-círculo de raio 2 e de um triângulo de base 2 e altura $\sqrt{3}$. Assim:

$$S = 8^2 - \frac{\pi \cdot 2^2}{2} - \frac{2 \cdot \sqrt{3}}{2} \Rightarrow S = 64 - 2\pi - \sqrt{3}$$

Continuando:

$$S = 64 - 2 \cdot 3,1 - 1,7 \Rightarrow S = 64 - 6,2 - 1,7 \Rightarrow S = 56,1$$

Opção B**Questão 6**

Solução: A área da árvore é dada pela expressão:

$$S = \frac{b \cdot h}{2}$$

Fazendo um desenho simplificado da árvore:

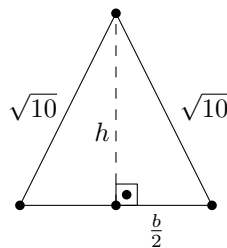


Figura 13.2: Desenho simplificado da árvore representado por um triângulo isósceles de base b e altura h .

Aplicando o Teorema de Pitágoras na figura 13.2 anterior:

$$\left(\sqrt{10}\right)^2 = \left(\frac{b}{2}\right)^2 + h^2$$

$$\frac{b^2}{4} + h^2 = 10$$

Como b e h são números naturais (inteiros positivos), eles obrigatoriamente pertencem ao conjunto $\{1, 2, 3\}$, pois a hipotenusa do triângulo formado por h , $\frac{b}{2}$ e

$\sqrt{10} \approx 3,16$ é maior que h e $\frac{b}{2}$. Além disso, S deve ser a menor possível, por inspeção, descobrimos que $b = 2$ e $h = 3$. A área então fica:

$$S = \frac{2 \cdot 3}{2} \Rightarrow S = 3\text{m}^2$$

Como cada metro quadrado custa R\$ 8,00 teremos um custo mínimo de R\$ 24,00.

Opção B

Questão 7

Solução: Seja A a quantia inicial de Antônio e P a quantia inicial de Pedro. De acordo com o enunciado temos a seguinte tabela:

	Antônio	Pedro
Inicial	A	P
1ª doação	$A - P$	$P + P$
2ª doação	$A - P + A - P$	$2P - (A - P)$

Como, após a segunda doação, as quantias são iguais:

$$A - P + A - P = 2P - (A - P)$$

$$2A - 2P = 2P - A + P \Rightarrow 3A = 5P$$

Como cada um inicia a viagem com R\$ 1800,00 a quantia de Antônio após a segunda doação:

$$2A - 2P = 1800$$

Substituindo a primeira equação na segunda:

$$2 \cdot \frac{5P}{3} - 2P = 1800 \Rightarrow \frac{10P - 6P}{3} = 1800$$

Continuando:

$$4P = 3 \cdot 1800 \Rightarrow P = \frac{3 \cdot 1800}{4} \Rightarrow P = 1350$$

Substituindo em alguma das equações:

$$A = \frac{5P}{3} \Rightarrow A = 2250$$

Opção E

Questão 8

Solução: Vamos, antes de começar a resolver a expressão, calcular o valor de $x = 1,363636\dots$:

$$x = 1 + 0,363636\dots$$

Fazendo $y = 0,363636\dots$ teremos:

$$100y = 36,363636\dots \Rightarrow 100y = 36 + 0,363636\dots$$

Ou seja, $100y = 36 + y$ e:

$$99y = 36 \Rightarrow y = \frac{36}{99}$$

Voltando a x :

$$x = 1 + \frac{36}{99} \Rightarrow x = \frac{99 + 36}{99} \Rightarrow x = \frac{135}{99}$$

Voltando à expressão original E :

$$E = \frac{\frac{135}{99} \times 2\frac{1}{5} - (0,5)^2}{(\sqrt{2})^{-4}} = \frac{\frac{135}{99} \times (2 + \frac{1}{5}) - (\frac{5}{10})^2}{(\frac{1}{\sqrt{2}})^4} = \frac{\frac{135}{99} \times (\frac{10+1}{5}) - (\frac{1}{2})^2}{(\frac{1}{\sqrt{16}})}$$

Continuando:

$$E = \frac{\frac{135}{99} \times (\frac{11}{5}) - (\frac{1}{4})}{(\frac{1}{4})} = \frac{\frac{27}{9} \times (\frac{1}{1}) - (\frac{1}{4})}{\frac{1}{4}} = \frac{\frac{27 \cdot 4 - 9}{36}}{\frac{1}{4}} = \frac{\frac{108-9}{36}}{\frac{1}{4}} = \frac{99}{36} \cdot \frac{4}{1} = 11$$

Opção E

Questão 9

Solução: O maior valor para u será aquele que é divisor de 60 e 126 simultaneamente, ou seja, $\text{MDC}(60, 126)$. Usando o algoritmo de Euler:

	2	
126	60	6
6	0	

O $\text{MDC}(60, 126) = 6$ e há 10 câmeras na Avenida B ($60 \div 6 = 10$) e $126 \div 6 = 21$ na Avenida A , pelo mesmo motivo. O total de câmeras então será de 31.

Opção C

Questão 10

Solução: Como o triângulo ABC é retângulo em A sua área S pode ser calculada como:

$$S = \frac{60\sqrt{2} \cdot 140\sqrt{2}}{2}$$

Sabemos que a área S de um triângulo qualquer com lados a e b e ângulo α entre estes lados é calculada pela expressão:

$$S = \frac{a \cdot b \cdot \text{sen } \alpha}{2}$$

Aplicando no nosso problema, a área S pode ser calculada como se segue:

$$S = \frac{140\sqrt{2} \cdot (DA) \cdot \text{sen } 45^\circ}{2} + \frac{60\sqrt{2} \cdot (DA) \cdot \text{sen } 45^\circ}{2}$$

Como as duas áreas calculadas devem ser iguais, temos:

$$\frac{60\sqrt{2} \cdot 140\sqrt{2}}{2} = \frac{140\sqrt{2} \cdot (DA) \cdot \text{sen } 45^\circ}{2} + \frac{60\sqrt{2} \cdot (DA) \cdot \text{sen } 45^\circ}{2}$$

Continuando:

$$\begin{aligned} \frac{60\sqrt{2} \cdot 140\sqrt{2}}{2} &= \frac{140\sqrt{2} \cdot (DA) \cdot \frac{\sqrt{2}}{2}}{2} + \frac{60\sqrt{2} \cdot (DA) \cdot \frac{\sqrt{2}}{2}}{2} \\ \frac{60 \cdot 140}{2} &= \frac{140 \cdot (DA) \cdot \frac{1}{2}}{2} + \frac{60 \cdot (DA) \cdot \frac{1}{2}}{2} \\ \frac{60 \cdot 140}{2} &= \frac{140 \cdot (DA)}{4} + \frac{60 \cdot (DA)}{4} \\ \frac{200 \cdot (DA)}{4} &= \frac{60 \cdot 140}{2} \end{aligned}$$

E finalmente:

$$\frac{DA}{2} = \frac{6 \cdot 14}{2} \Rightarrow DA = 6 \cdot 14 \Rightarrow DA = 84 \text{ cm}$$

Passando a medida para metros $DA = 0,84 \text{ m}$.

Opção B

Questão 11

Solução: Vamos chamar de SB a revista saúde à bordo e VM a revista vida marinha. Veja o diagrama de Venn na figura 13.3.

O número de pessoas que respondeu a pesquisa foi, portanto:

$$n = 20 - 8 + 8 + 30 - 8 + 14$$

$$n = 20 + 30 + 6 \Rightarrow n = 56$$

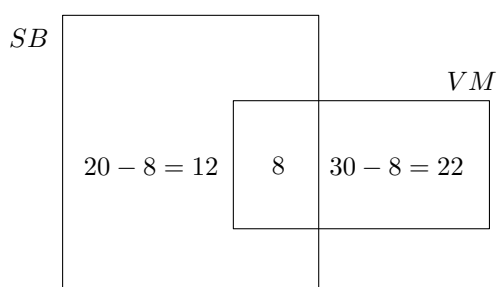


Figura 13.3: Diagrama de Venn representado os dados da pesquisa.

Opção A

Questão 12

Solução: O problema pode ser resolvido com uma regra de três, mas é muito mais simples que isso. Na ida cada dólar valia R\$ 2,90, então:

$$1000 \times 2,90 = 2900$$

Ou seja, ela gastou R\$ 2.900,00 para comprar os dólares. Na volta ele vendeu cada dólar por R\$ 2,70, então:

$$1000 \times 2,70 = 2700$$

Ou seja, ela só recebeu R\$ 2.700,00. Houve então um prejuízo de R\$ 200,00.

Opção C

Questão 13

Solução: Seja p o primeiro colocado; s , o segundo e t o terceiro. De acordo com o enunciado:

$$\begin{cases} p = 82 \\ s = 78 \\ t - 78 = \frac{t-82}{3} \end{cases}$$

Resolvendo a terceira equação:

$$3t - 234 = t - 82 \Rightarrow 3t - t = 234 - 82 \Rightarrow 2t = 152 \Rightarrow t = 76$$

Opção D

Questão 14

Solução: A soma S das raízes de uma equação do 2º grau do tipo $ax^2 + bx + c = 0$ é sempre dada pela expressão $S = -\frac{b}{a}$. Então:

$$S = -\frac{-(2\sqrt{2} + 2)}{\sqrt{2}}$$

Racionalizando esta expressão:

$$S = -\frac{-(2\sqrt{2} + 2)}{\sqrt{2}} \cdot \frac{\sqrt{2}}{\sqrt{2}} = \frac{2 \cdot 2 + 2\sqrt{2}}{2} = \frac{4 + 2\sqrt{2}}{2} = 2 + \sqrt{2}$$

Opção D

Questão 15

Solução: Como o número deve ser divisível por 3, a soma de seus algarismos deve ser da forma $3k$, em que k é inteiro e positivo, em outras palavras:

$$2 + 1 + 3 + a + 4 + 6 = 3k \Rightarrow a + 16 = 3k$$

Substituindo os possíveis de k :

$$k = 0 \Rightarrow a + 16 = 3 \cdot 0 \Rightarrow a = -16$$

$$k = 1 \Rightarrow a + 16 = 3 \cdot 1 \Rightarrow a = -13$$

$$k = 2 \Rightarrow a + 16 = 3 \cdot 2 \Rightarrow a = -10$$

$$k = 3 \Rightarrow a + 16 = 3 \cdot 3 \Rightarrow a = -7$$

$$k = 4 \Rightarrow a + 16 = 3 \cdot 4 \Rightarrow a = -4$$

$$k = 5 \Rightarrow a + 16 = 3 \cdot 5 \Rightarrow a = -1$$

$$k = 6 \Rightarrow a + 16 = 3 \cdot 6 \Rightarrow a = 2$$

$$k = 7 \Rightarrow a + 16 = 3 \cdot 7 \Rightarrow a = 5$$

$$k = 8 \Rightarrow a + 16 = 3 \cdot 8 \Rightarrow a = 8$$

$$k = 9 \Rightarrow a + 16 = 3 \cdot 9 \Rightarrow a = 11$$

Como a está entre 0 e 9, só há três valores possíveis para a . A soma destes valores é: $2 + 5 + 8 = 15$

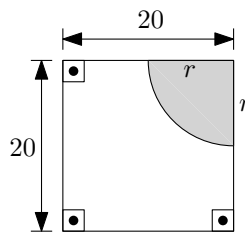
Opção C

Capítulo 14

Matemática 2005/2006

Questão 1

Solução: A ideia da questão é, a partir de um quadrado, retirar uma área de 20% que tem o formato de um setor circular de um quarto de círculo. Veja a figura abaixo:



A área do quadrado:

$$S = 20^2 \Rightarrow S = 400 \text{ m}^2$$

Queremos que 20% seja um setor circular de 90° :

$$\frac{1}{4}\pi r^2 = \frac{20}{100} \cdot 400 \Rightarrow r^2 = \frac{80 \cdot 4}{\pi} \Rightarrow r^2 = \frac{320}{3,14} \Rightarrow r^2 \approx 100 \Rightarrow r \approx 10 \text{ m}$$

Opção E

Questão 2

Solução: De acordo com o enunciado temos a seguinte equação:

$$x - 3 = 2\sqrt{x}$$

Elevando ao quadrado ambos os lados da igualdade e resolvendo a equação resultante:

$$x^2 - 6x + 9 = 4x \Rightarrow x^2 - 10x + 9 = 0$$

Continuando com o discriminante:

$$\Delta = (-10)^2 - 4 \cdot 1 \cdot 9$$

Logo:

$$\Delta = 100 - 36 \Rightarrow \Delta = 64$$

Então teremos:

$$x_{1,2} = \frac{-(-10) \pm \sqrt{64}}{2 \cdot 1}$$

Continuando:

$$\begin{cases} x_1 = \frac{10+8}{2} \Rightarrow x_1 = \frac{18}{2} \Rightarrow x_1 = 9 \\ x_2 = \frac{10-8}{2} \Rightarrow x_2 = \frac{2}{2} \Rightarrow x_2 = 1 \end{cases}$$

Testando os valores:

$$x - 3 = 2\sqrt{x} \Rightarrow 1 - 3 = 2\sqrt{1} \Rightarrow -2 = 2 \rightarrow \text{Falso}$$

E

$$x - 3 = 2\sqrt{x} \Rightarrow 9 - 3 = 2\sqrt{9} \Rightarrow 6 = 2 \cdot 3 \rightarrow \text{Verdadeiro}$$

Só há, portanto, uma solução que é um número ímpar e não-primo.

Opção D

Questão 3

Solução: O triângulo ABC é isósceles e, portanto $AB \cong AC$, então o ângulo A mede 40° e os ângulos B e C são iguais e valem 70° cada um. Da mesma maneira, XY é um triângulo isósceles com $BX \cong BY$ e, como B vale 70° , os outros dois ângulos valem 55° cada um. O mesmo vale para o triângulo CZY . Portanto, o ângulo pedido vale 70° , pois a soma vale 180° .

Opção D

Questão 4

Solução: Para encontrar a largura da rua, precisamos calcular os catetos x e y adjacentes aos ângulos de 45° e 60° , respectivamente:

$$\cos 45^\circ = \frac{x}{10} \Rightarrow x \approx 7,07 \text{ m}$$

E:

$$\cos 60^\circ = \frac{y}{10} \Rightarrow y = 5 \text{ m}$$

Somando x e y

$$x + y = 7,07 + 5 \Rightarrow x + y = 12,07 \text{ m}$$

Opção D

Questão 5

Solução: Seja c o peso do copo e a o peso da água temos as equações:

$$\begin{cases} a + c = 325 \\ \frac{a}{2} + c = 180 \end{cases}$$

Da primeira equação temos $a = 325 - c$. Substituindo na segunda equação:

$$\frac{325 - c}{2} + c = 180$$

$$\frac{325 - c + 2c}{2} = 180 \Rightarrow 325 + c = 360$$

$$c = 360 - 325 \Rightarrow c = 35$$

Opção C

Questão 6

Solução: Sejam c os tiros com acerto no alvo e e , os tiros com erro. Podemos elaborar o seguinte sistema de equações:

$$\begin{cases} c + e = 25 \\ 0,4c - 0,1e = 0,5 \end{cases}$$

Da primeira equação temos $e = 25 - c$. Substituindo na segunda equação:

$$0,4c - 0,1(25 - c) = 0,5 \Rightarrow 0,4c - 2,5 + 0,1c = 0,5$$

Daí:

$$0,5c = 0,5 + 2,5 \Rightarrow c = \frac{3}{0,5} \Rightarrow c = 6$$

Para calcular a porcentagem P de acertos fazemos: $P = \frac{6}{25} = 0,24 = 24\%$.

Opção B

Questão 7

Solução: Seja c o preço de compra, v o preço de venda e x o número de maçãs vendidas. Então:

$$c = \frac{0,75}{2}$$

E:

$$v = \frac{3,00}{6}$$

Comprando x maçãs e as vendendo, queremos lucro de 50,00:

$$x \left(\frac{3}{6} - \frac{0,75}{2} \right) = 50 \Rightarrow x \left(\frac{1}{2} - \frac{0,75}{2} \right) = 50 \Rightarrow x \left(\frac{1 - 0,75}{2} \right) = 50$$

$$x \left(\frac{0,25}{2} \right) = 50 \Rightarrow x = \frac{100}{0,25} \Rightarrow x = 400$$

Opção C

Questão 8

Solução: A área de um triângulo de base b e altura h é calculada pela expressão:

$$S = \frac{b \cdot h}{2}$$

Para os três triângulos a base e a altura são os lados do retângulo que os circunscreve, portanto, as áreas são todas iguais.

Opção D

Questão 9

Solução: De acordo com o enunciado, podemos encontrar o total T de sargentos em função de n :

$$200 + 160 + n = T$$

Mas sabemos também que:

$$n = \frac{2}{5}T$$

Daí:

$$360 + n = \frac{5}{2}n \Rightarrow \frac{5n - 2n}{2} = 360$$

E:

$$\frac{3n}{2} = 360 \Rightarrow 3n = 720 \Rightarrow n = 240$$

Fatorando n encontraremos $n = 2^4 \cdot 3 \cdot 5$ que podemos escrever com sendo: $n = 2 \cdot 8 \cdot 15$.

Opção A

Questão 10

Solução: As medidas em centímetros serão 880 cm e 760 cm. As lajotas máximas serão o mdc destes valores, ou seja, $\text{mdc}(880, 760)$. Daí:

	1	6	3
880	760	120	40
120	40	0	

As lajotas deverão ter, portanto, 40 cm de lado.

Opção D

Questão 11

Solução: Seja E a expressão dada:

$$E = ac + 2bc - ad - 2bd \Rightarrow E = ac - ad + 2bc - 2bd$$

Continuando:

$$E = a(c - d) + 2b(c - d) \Rightarrow E = (a + 2b)(c - d)$$

Opção A

Questão 12

Solução: Seja x o valor sacado, teremos a seguinte equação:

$$x + \frac{5}{100} \cdot x = 2100$$

Resolvendo:

$$\frac{100x + 5x}{100} = 2100 \Rightarrow \frac{105x}{100} = 2100 \Rightarrow 105x = 210000 \Rightarrow x = 2000$$

Opção B

Questão 13

Solução: Se a maquete está na escala 1 : 500, significa que 1 unidade na maquete resulta em 500 unidades da mesma medida no tamanho real. As medidas “reais” então serão:

- Largura: $8 \times 500 = 4000$ mm
- Comprimento: $10 \times 500 = 5000$ mm
- Altura: $8 \times 500 = 4000$ mm

Como 1 litro é igual a 1 decímetro cúbico, passamos as medidas para decímetros e depois calculamos o volume:

- Largura: 40 dm
- Comprimento: 50 dm
- Altura: 40 dm

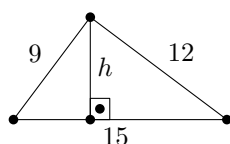
Calculando o volume V (supondo o recipiente em forma de paralelepípedo):

$$V = 40 \times 50 \times 40 \Rightarrow V = 80000 \text{ litros}$$

Opção E

Questão 14

Solução 1: O triângulo em questão é retângulo, basta verificar que $15^2 = 12^2 + 9^2$. Ou ainda que o mesmo tem lados proporcionais a 3, 4 e 5, que é um triângulo pitagórico. Teremos então a figura abaixo:



Em que h é altura relativa à hipotenusa. Lembrando que vale a relação métrica no triângulo retângulo de hipotenusa a , catetos b e c e altura relativa a hipotenusa h :

$$bc = ah$$

Observação: pode-se demonstrar esta relação usando semelhança de triângulos. Aplicando ao problema:

$$9 \cdot 12 = 15 \cdot h \Rightarrow h = \frac{9 \cdot 12}{15} \Rightarrow h = \frac{3 \cdot 12}{5} \Rightarrow h = 7,2 \text{ cm}$$

Solução 2: Podemos usar o radical de Heron para calcular a área S usando o semiperímetro p :

$$S = \sqrt{p(p-a)(p-b)(p-c)}$$

Calculando o semiperímetro:

$$p = \frac{15 + 12 + 9}{2} \Rightarrow p = \frac{36}{2} \Rightarrow p = 18$$

Como a área pode ser calculada usando a base e a altura:

$$S = \frac{15 \cdot h}{2}$$

Comparando as duas áreas:

$$\sqrt{18(18-15)(18-12)(18-9)} = \frac{15 \cdot h}{2}$$

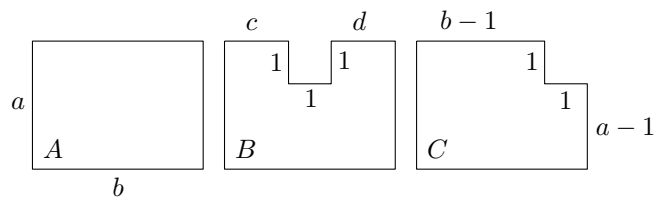
$$\sqrt{18 \cdot 3 \cdot 6 \cdot 9} = \frac{15 \cdot h}{2} \Rightarrow 18 \cdot 3 = \frac{15 \cdot h}{2}$$

$$18 = \frac{5 \cdot h}{2} \Rightarrow h = \frac{36}{5} \Rightarrow h = 7,2 \text{ cm}$$

Opção B

Questão 15

Solução:



Por observação da figura anterior, vemos que A e C possuem o mesmo perímetro, pois o “recorte” em C possui lados congruentes aos da figura retirada. Isto não ocorre com B . No entanto, abaixo faremos uma solução mais formal. Vamos calcular os respectivos perímetros:

$$2p_A = a + b + a + b \Rightarrow 2p_A = 2(a + b)$$

$$2p_B = a + b + a + \underbrace{c + 1 + d + 1 + 1}_{=b} \Rightarrow 2p_B = 2a + 2b + 2 \Rightarrow 2p_B = 2(a + b + 1)$$

$$2p_C = a + b + a - 1 + b - 1 + 1 + 1 \Rightarrow 2p_C = 2a + 2b \Rightarrow 2p_C = 2(a + b)$$

Portanto, $2p_A = 2p_C \neq 2p_B$

Opção B

Capítulo 15

Matemática 2006/2007

Questão 1

Solução: O quadrado $ABCD$ tem perímetro 64 cm, logo o outro quadrado $WXYZ$ tem perímetro $2p$ igual a 128. Como o perímetro é a soma dos 4 lados teremos:

$$2p = 4L \Rightarrow L = \frac{128}{4} \Rightarrow L = 32 \text{ cm}$$

Opção E

Questão 2

Solução: Queremos que:

$$(x^2 + mx)(x^2 - x) + nx^2 = x^4 - 3x^3 + 7x^2$$

Desenvolvendo a expressão do lado esquerdo:

$$x^4 - x^3 + mx^3 - mx^2 + nx^2 = x^4 - 3x^3 + 7x^2$$

Agrupando os termos semelhantes:

$$x^4 + (-1 + m)x^3 + (-m + n)x^2 = x^4 - 3x^3 + 7x^2$$

Igualando os coeficientes teremos:

$$\begin{cases} -1 + m = -3 \\ -m + n = 7 \end{cases}$$

Da primeira equação:

$$m = 1 - 3 \Rightarrow m = -2$$

Substituindo na segunda equação:

$$-(-2) + n = 7 \Rightarrow n = 5$$

Então:

$$m + n = -2 + 5 \Rightarrow m + n = 3$$

Opção B

Questão 3

Solução: Antes de qualquer cálculo devemos lembrar que um aumento de 20% sobre uma grandeza x pode ser calculado como se segue:

$$x + \frac{20}{100}x = x + 0,2x = 1,2x$$

Analogamente para o aumento de 60%. Temos uma regra de três composta:

Distância (km)	—	Tempo (h)	—	Velocidade (km/h)
40	—	8	—	5
$40 \cdot 1,2$	—	x	—	$5 \cdot 1,6$

A distância em relação ao tempo de viagem é uma grandeza diretamente proporcional. Entretanto a velocidade é inversamente proporcional ao tempo gasto na viagem, logo:

$$\frac{8}{x} = \frac{40}{40 \cdot 1,2} \cdot \frac{5 \cdot 1,6}{5}$$

Resolvendo esta equação teremos:

$$\frac{8}{x} = \frac{1,6}{1,2} \Rightarrow \frac{8}{x} = \frac{4}{3} \Rightarrow x = 6 \text{ horas}$$

Opção B

Questão 4

Solução: O que queremos é $V > 0$, ou seja:

$$-3(6 - x) > 0 \Rightarrow -18 + 3x > 0 \Rightarrow 3x > 18 \Rightarrow x > 6$$

Opção E

Questão 5

Solução: Resolvendo cada inequação separadamente temos:

1.

$$2(2x + 3) + 5 > 1$$

$$4x + 6 + 5 > 1 \Rightarrow 4x > -10 \Rightarrow x > -\frac{5}{2}$$

O conjunto solução da inequação (1) é, portanto:

$$S_1 = \{-2, -1, 0, 1, 2, 3 \dots\}$$

2.

$$3(-2 + x) - 2 < 1$$

$$-6 + 3x - 2 < 1 \Rightarrow 3x < 1 + 8 \Rightarrow x < 3$$

O conjunto solução da inequação (2) é, portanto:

$$S_2 = \{\dots - 2, -1, 0, 1, 2\}$$

Calculando $S_1 \cap S_2$ encontramos:

$$S_1 \cap S_2 = \{-2, -1, 0, 1, 2\}$$

Opção D**Questão 6**

Solução: Seja a expressão dada:

$$(3^{-4} \cdot 9^4 : 3^{-6}) : (81 : 3^{-2})$$

Reescrevendo teremos:

$$\frac{\left(\frac{3^{-4} \cdot 9^4}{3^{-6}}\right)}{\left(\frac{81}{3^{-2}}\right)} = \frac{\left(\frac{3^{-4} \cdot (3^2)^4}{3^{-6}}\right)}{\left(\frac{3^4}{3^{-2}}\right)} = \frac{3^{-4+8-(-6)}}{3^{4-(-2)}} = 3^{10-6} = 3^4$$

Opção B**Questão 7**

Solução 1: Na figura do enunciado, seja b a base e h a altura do triângulo ABC . Traçando h e destacando os respectivos ângulos ficamos com a figura 15.1, em que temos dois triângulos isósceles ABM e AMC .

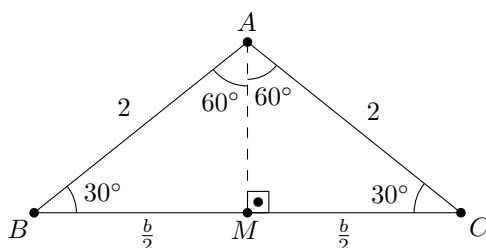


Figura 15.1: Questão 7

No triângulo retângulo ABM :

$$\operatorname{sen} 30^\circ = \frac{h}{2} \Rightarrow \frac{1}{2} = \frac{h}{2} \Rightarrow h = 1 \text{ cm}$$

$$\operatorname{cos} 30^\circ = \frac{\frac{b}{2}}{2} \Rightarrow \frac{\sqrt{3}}{2} = \frac{b}{4} \Rightarrow b = 2\sqrt{3} \text{ cm}$$

Calculando a área do triângulo:

$$S = \frac{b \cdot h}{2} \Rightarrow S = \frac{2\sqrt{3} \cdot 1}{2} \Rightarrow S = \sqrt{3} \text{ cm}^2$$

Solução 2: Quando conhecemos dois lados a e b de um triângulo e o ângulo α entre estes lados, podemos calcular a área de um triângulo através da expressão:

$$S = \frac{a \cdot b \cdot \operatorname{sen} \alpha}{2}$$

Aplicando ao problema:

$$S = \frac{2 \cdot 2 \cdot \operatorname{sen} 120^\circ}{2} \Rightarrow S = \frac{4 \cdot \frac{\sqrt{3}}{2}}{2} \Rightarrow S = 2 \cdot \frac{\sqrt{3}}{2} \Rightarrow S = \sqrt{3} \text{ cm}^2$$

Opção B

Questão 8

Solução: Prolongando a reta p até encontrarmos as retas t e s , teremos a figura 15.2 na qual destacamos os pontos A, B, C, D, E e F e os ângulos importantes. Como $q \parallel r$ e $r \parallel s$, por transitividade, temos $q \parallel s$ e, além disso, o ângulo $\widehat{DFE} = 25^\circ$. O triângulo FDE é retângulo em D , pois, como dito no enunciado $p \perp t$, portanto, $\widehat{DEF} = 90^\circ - 25^\circ = 65^\circ$. Como os ângulos distintos formados entre as retas t e s são suplementares (somam 180°), o ângulo obtuso entre o segmento FE e a reta t mede 115° .

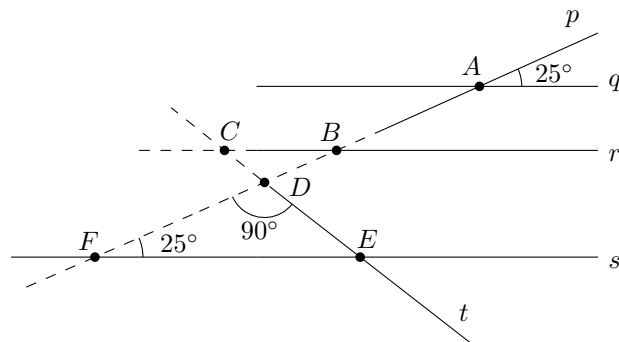


Figura 15.2: Questão 8

Opção E

Questão 9

Solução: Como vemos na figura 15.3, em que temos um losango, as diagonais se interceptam no ponto médio formando um ângulo de 90° .

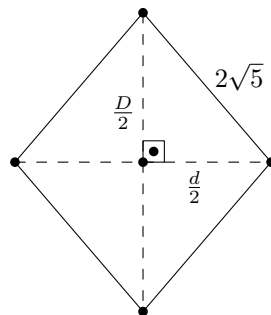


Figura 15.3: Questão 9

Como a diagonal maior D é o dobro da menor d , ou seja, $D = 2d$, temos a seguinte expressão para o teorema de Pitágoras, visto na figura:

$$D^2 + d^2 = (2\sqrt{5})^2$$

Desenvolvendo:

$$\left(\frac{2d}{2}\right)^2 + \left(\frac{d}{2}\right)^2 = (2\sqrt{5})^2 \Rightarrow \frac{4d^2}{4} + \frac{d^2}{4} = 20$$

Continuando:

$$\frac{5d^2}{4} = 20 \Rightarrow d^2 = \frac{80}{5} \Rightarrow d^2 = 16 \Rightarrow d = \pm 4$$

Como $d > 0$ só usaremos o valor positivo, isto é $d = 4$. Como $D = 2d$, teremos $D = 8$. A soma das diagonais será, portanto:

$$D + d = 8 + 4 \Rightarrow D + d = 12$$

Opção D

Questão 10

Solução: Sabemos que $(x + y)^2 = x^2 + 2xy + y^2$ então:

$$a = \sqrt{6} + 1 \Rightarrow a^2 = (\sqrt{6} + 1)^2$$

Desenvolvendo:

$$a^2 = (\sqrt{6})^2 + 2\sqrt{6} + 1^2 \Rightarrow a^2 = 7 + 2\sqrt{6}$$

E

$$b = \frac{1}{\sqrt{2}} + \sqrt{3} \Rightarrow b^2 = \left(\frac{1}{\sqrt{2}} + \sqrt{3}\right)^2$$

Desenvolvendo:

$$b^2 = \left(\frac{1}{\sqrt{2}}\right)^2 + \frac{2\sqrt{3}}{\sqrt{2}} + (\sqrt{3})^2 \Rightarrow b^2 = \frac{1}{2} + 3 + \frac{2\sqrt{3}}{\sqrt{2}}$$

Racionalizando a segunda parcela da soma:

$$b^2 = \frac{1+6}{2} + \frac{2\sqrt{3}}{\sqrt{2}} \cdot \frac{\sqrt{2}}{\sqrt{2}} \Rightarrow b^2 = \frac{7}{2} + \frac{2\sqrt{6}}{2} \Rightarrow b^2 = \frac{7}{2} + \sqrt{6}$$

Calculando $a^2 + b^2$:

$$a^2 + b^2 = 7 + 2\sqrt{6} + \frac{7}{2} + \sqrt{6}$$

$$a^2 + b^2 = \frac{14+7}{2} + 3\sqrt{6}$$

$$a^2 + b^2 = \frac{21}{2} + 3\sqrt{6}$$

Opção A

Questão 11

Solução: De acordo com o diagrama temos as seguintes equações:

$$\begin{cases} y = 3x \\ z = y + 12 \\ x = \frac{z}{4} \end{cases}$$

Da terceira equação vem $z = 4x$. Colocando z e y em função de x e substituindo na segunda equação, teremos:

$$4x = 3x + 12 \Rightarrow x = 12$$

Da primeira equação:

$$y = 36$$

Da terceira:

$$z = 48$$

Portanto:

$$x + y = 12 + 36 \Rightarrow x + y = 48$$

Opção C

Questão 12

Solução: Vamos resolver cada uma separadamente:

1. Como é uma equação fracionária, vamos primeiro calcular a condição de existência (ou conjunto-universo):

$$x + 2 \neq 0 \Rightarrow x \neq -2$$

E

$$2x + 4 \neq 0 \Rightarrow x \neq -2$$

Então:

$$\frac{2}{x+2} = \frac{3}{2x+4} \Rightarrow 4x + 8 = 3x + 6 \Rightarrow x = -2$$

Logo, o conjunto solução é vazio. Isto invalida a proposta da questão, uma vez que não há valor para x , não é possível calcular $y - x$. No entanto, vamos calcular y assim mesmo.

2. Condição de existência:

$$2y + 2 \neq 0 \Rightarrow y \neq -1$$

Então:

$$\frac{y+16}{2y+2} = 3 \Rightarrow y + 16 = 6y + 6 \Rightarrow -5y = -10 \Rightarrow y = 2$$

Porém, como vimos, não há opção válida.

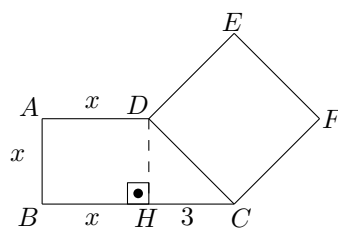


Figura 15.4: Questão 13

Sem Opção

Questão 13

Solução: Traçando a altura DH do trapézio teremos a figura 15.4.

Observação: Para que tenhamos $DH = x$ o trapézio precisa ser retângulo, o que não é dito no problema, mas faremos esta suposição, por hora. Daí, como o triângulo DHC é retângulo em H :

$$(DC)^2 = x^2 + 9$$

A área do trapézio:

$$S = \frac{(b + B) \cdot h}{2} \Rightarrow S = \frac{(x + x + 3)x}{2} \Rightarrow S = \frac{2x^2 + 3x}{2}$$

Somando com a área do quadrado, temos a área total S_T :

$$S_T = \frac{2x^2 + 3x}{2} + x^2 + 9 \Rightarrow S_T = \frac{2x^2 + 3x + 2x^2 + 18}{2}$$

$$S_T = \frac{4x^2 + 3x + 18}{2}$$

Isto nos dá como resposta a opção C. Vamos analisar o caso em que o trapézio não é retângulo. A figura então fica:

Agora precisamos calcular DH e DC para encontrarmos a área do trapézio e do quadrado respectivamente. O triângulo DHC é retângulo em H :

$$(DC)^2 = (DH)^2 + (HC)^2$$

Ligando BD teremos o triângulo ABD , cuja área pode ser calculada em função de DH :

$$S_{ABD} = \frac{x \cdot (DH)}{2}$$

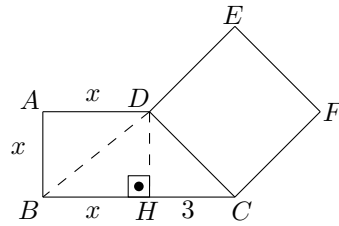


Figura 15.5: Questão 13

A área do triângulo BCD é dada por:

$$S_{BCD} = \frac{(x + 3) \cdot (DH)}{2}$$

A área do quadrado:

$$S_{CDEF} = (DC)^2$$

Note que há mais variáveis que equações. Somando as áreas anteriores teremos justamente a área do trapézio e nos faltará uma equação para relacionar DC com HC . Portanto, a questão só tem solução se considerarmos AB perpendicular a BC .

Opção C

Questão 14

Solução: Uma equação do segundo grau só tem raízes reais e distintas se $\Delta > 0$. Vamos analisar cada alternativa:

(A) $2x^2 + 6x - 20 = 0$

$$\Delta = 6^2 - 4 \cdot 2 \cdot (-20) \Rightarrow \Delta = 36 + 160 \Rightarrow \Delta = 196 \Rightarrow \Delta > 0$$

(B) $3x^2 - 12x + 12 = 0$

$$\Delta = (-12)^2 - 4 \cdot 3 \cdot 12 \Rightarrow \Delta = 144 - 144 \Rightarrow \Delta = 0$$

(C) $-x^2 + 5x - 10 = 0$

$$\Delta = 5^2 - 4 \cdot (-1) \cdot (-10) \Rightarrow \Delta = 25 - 40 \Rightarrow \Delta = -15 \Rightarrow \Delta < 0$$

(D) $-2x^2 - 12x - 18 = 0$

$$\Delta = (-12)^2 - 4 \cdot (-2) \cdot (-18) \Rightarrow \Delta = 144 - 144 \Rightarrow \Delta = 0$$

$$(E) x^2 + 4 = 0$$

$$\Delta = 0^2 - 4 \cdot 1 \cdot 4 \Rightarrow \Delta = 16 \Rightarrow \Delta < 0$$

Opção A

Questão 15

Solução: Seja s o preço do salgado e r o preço do refrigerante. De acordo com enunciado temos as seguintes equações:

$$\begin{cases} 5s + 3r = 13 \\ 4s + 4r = 12 \end{cases}$$

Primeiro vamos dividir a segunda equação por 4:

$$\begin{cases} 5s + 3r = 13 \\ s + r = 3 \end{cases}$$

Agora vamos multiplicar a segunda equação por 3:

$$\begin{cases} 5s + 3r = 13 \\ 3s + 3r = 9 \end{cases}$$

Subtraindo a primeira da segunda equação:

$$5s - 3s + 3r - 3r = 13 - 9 \Rightarrow 2s = 4 \Rightarrow s = 2$$

Substituindo em qualquer equação:

$$2 + r = 3 \Rightarrow r = 1$$

Respondendo então a questão:

$$2s + r = 2 \cdot 2 + 1 \Rightarrow 2s + r = 5$$

Opção C

Capítulo 16

Matemática 2007/2008

Questão 1

Solução: Fazendo a divisão de A por B teremos:

$$\frac{A}{B} = \frac{3 - \sqrt{3}}{-1 + \sqrt{3}}$$

Racionalizando teremos:

$$\frac{A}{B} = \frac{3 - \sqrt{3}}{-1 + \sqrt{3}} \cdot \frac{(-1 - \sqrt{3})}{(-1 - \sqrt{3})} = \frac{-3 - 3\sqrt{3} + \sqrt{3} + 3}{1 + \sqrt{3} - \sqrt{3} - 3} = \frac{-2\sqrt{3}}{-2} = \sqrt{3}$$

Opção B

Questão 2

Solução: Seja x a quantidade que o primo de Pedro tem, então:

$$\frac{40}{100} \cdot 260 = \frac{25}{100} \cdot x \Rightarrow 40 \cdot 260 = 25 \cdot x \Rightarrow x = \frac{40 \cdot 260}{25}$$

Simplificando,

$$x = \frac{8 \cdot 260}{5} \Rightarrow x = \frac{8 \cdot 52}{1} \Rightarrow x = 416$$

Opção E

Questão 3

Solução: Seja E a expressão dada:

$$E = [(4 + 5) + 3 \cdot 7] \div (5 \cdot 1 + 5) + (60 - 5 \cdot 12)$$

Desenvolvendo:

$$E = [9 + 21] \div (5 + 5) + (60 - 60) \Rightarrow E = [30] \div (10) + 0$$

Logo $E = 3$.

Opção A

Questão 4

Solução: Como a corda tem 20 metros, um dos pedaços será de tamanho x e o outro de tamanho $20 - x$. Cada quadrado terá lado igual a $\frac{1}{4}$ do comprimento do fio, ou seja, um quadrado terá lado igual a $\frac{x}{4}$ e o outro $\frac{20-x}{4}$. A diferença entre as áreas vale 5 m^2 ou seja:

$$\left(\frac{x}{4}\right)^2 - \left(\frac{20-x}{4}\right)^2 = 5$$

Desenvolvendo a expressão:

$$\frac{x^2}{16} - \frac{400 - 40x + x^2}{16} = 5$$

$$\frac{x^2 - 400 + 40x - x^2}{16} = 5$$

$$x^2 - 400 + 40x - x^2 = 80 \Rightarrow -400 + 40x = 80 \Rightarrow 40x = 480 \Rightarrow x = 12$$

Os pedaços têm 12 m e 8 m cada um. Logo os quadrados têm lado 3 m e 2 m respectivamente e áreas 9 m^2 e 4 m^2 da mesma forma.

Opção E

Questão 5

Solução: Basta escrevermos a seguinte equação:

$$4 \cdot 204 + x = 1130$$

Onde x é a entrada a ser dada. Solucionando a equação teremos:

$$x = 1130 - 816 \Rightarrow x = 314$$

Opção D

Questão 6

Solução: Para cada opção, vamos colocar as parcelas na mesma unidade da resposta final:

- (A) $600 \text{ m} + 5 \text{ m} = 605 \text{ m}$
- (B) $0,22 \text{ m} + 4,5 \text{ m} = 4,75 \text{ m}$
- (C) $730 \text{ m} - 46 \text{ m} = 684 \text{ m}$
- (D) $56 \text{ m} + 18 \text{ m} = 74 \text{ m}$
- (E) $0,2 \text{ m} + 0,325 \text{ m} = 0,525 \text{ m}$

Opção C**Questão 7**

Solução: Vamos resolver a equação do segundo grau:

$$3x^2 - 13x - 10 = 0$$

Calculando o discriminante:

$$\Delta = (-13)^2 - 4 \cdot 3 \cdot (-10) \Rightarrow \Delta = 169 + 120 \Rightarrow \Delta = 289$$

Portanto:

$$x_{1,2} = \frac{-(-13) \pm \sqrt{289}}{2 \cdot 3} \Rightarrow \begin{cases} x_1 = \frac{13+17}{6} \Rightarrow x_1 = \frac{30}{6} \Rightarrow x_1 = 5 \\ x_2 = \frac{13-17}{6} \Rightarrow x_2 = \frac{-4}{6} \Rightarrow x_2 = \frac{-2}{3} \end{cases}$$

Como uma medida deve ser um número positivo temos que o lado do quadrado vale 5 e, portanto sua área vale:

$$S = 5^2 \Rightarrow S = 25 \text{ cm}^2$$

Opção B**Questão 8**

Solução: Vamos fatorar cada polinômio:

$$1. \quad 3x^2 + 6x = 3x(x + 2)$$

$$2. \quad x^3 + 4x^2 + 4x = x(x^2 + 4x + 4) = x(x + 2)^2$$

A definição do MMC é:

“Produto dos fatores comuns e não comuns de maior expoente de cada forma fatorada”

Sendo assim:

$$\text{MMC} (3x^2 + 6x, x^3 + 4x^2 + 4x) = 3 \cdot x \cdot (x + 2)^2$$

Opção B

Questão 9

Solução: Dividir um número y por um número não nulo x é o mesmo que multiplicar pelo seu inverso, ou seja:

$$\frac{y}{x} = y \cdot \frac{1}{x}$$

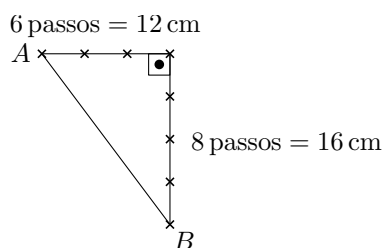
Usando isto nos dados do enunciado:

$$\frac{y}{25} = y \cdot \frac{1}{25} = y \cdot 0,04$$

Opção D

Questão 10

Solução: A figura formada é um triângulo retângulo de catetos 16 cm e 12 cm. Veja abaixo:



Então:

$$(\overline{AB})^2 = 12^2 + 16^2$$

$$\overline{AB} = \sqrt{144 + 256} \Rightarrow \overline{AB} = \sqrt{400} \Rightarrow \overline{AB} = 20 \text{ cm}$$

Opção C

Questão 11

Solução: A partir da figura dada, prolongamos a reta a para que a mesma intercepte as retas c e d .

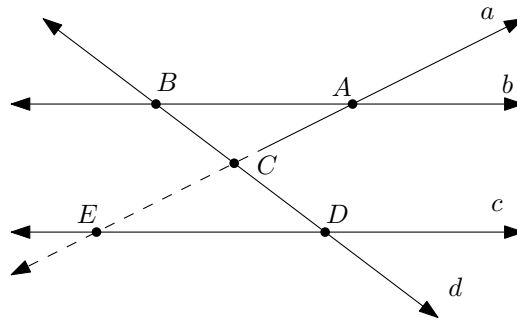
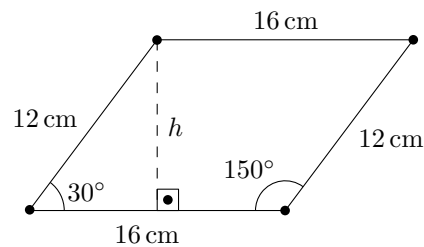


Figura 16.1: Questão 11

Assim, formamos os dois triângulos CDE e ABC como na figura 16.1. Do enunciado, o menor ângulo vale 40° e os ângulos formados sobre o vértice C valem 90° (CDE e ABC são triângulos retângulos). Então $\widehat{CDE} = 40^\circ$ e, conseqüentemente, $\widehat{CED} = 50^\circ$. Como $a \parallel b$, $\widehat{CAB} \cong \widehat{CED} = 50^\circ$. O suplemento então vale 130° .

Opção E**Questão 12**

Solução: Seja a figura do enunciado:



Como os lados são paralelos o ângulo agudo mede 30° . Calculando o seno deste ângulo teremos:

$$\text{sen } 30^\circ = \frac{h}{12}$$

Logo:

$$h = \frac{1}{2} \cdot 12 \Rightarrow h = 6 \text{ cm}$$

Calculando a área:

$$S = 16 \cdot h \Rightarrow S = 16 \cdot 6 \Rightarrow S = 96 \text{ cm}^2$$

Opção D

Questão 13

Solução: Vamos desenvolver a expressão dada:

$$A = [(x^2 - 2x + 4)(x + 2) - (x^3 + x^2 + 8)]$$

$$A = [x^3 + 2x^2 - 2x^2 - 4x + 4x + 8 - x^3 - x^2 - 8]$$

$$A = [-x^2] \Rightarrow A = -x^2$$

Opção A**Questão 14**

Solução: Temos uma regra de três composta:

Gotas/minuto	—	Dias	—	Litros
20	—	30	—	100
45	—	20	—	x

Tanto a taxa de gotas por minuto quanto o número de dias são diretamente proporcionais ao número de litros desperdiçados, logo:

$$\frac{20}{45} \cdot \frac{30}{20} = \frac{100}{x}$$

Resolvendo esta equação teremos:

$$x = \frac{45 \cdot 100}{30}$$

$$x = 150 \text{ litros}$$

Opção C**Questão 15**

Solução: Resolvendo cada inequação separado:

1.

$$7a + 8 > 236 \Rightarrow 7a > 228 \Rightarrow a > \frac{228}{7} \Rightarrow a > 32,57$$

E

2.

$$11 - \frac{5a}{3} > -45 \Rightarrow 33 - 5a > -135 \Rightarrow -5a > -135 - 33$$

Continuando

$$-5a > -168 \Rightarrow a < \frac{168}{5} \Rightarrow a < 33,6$$

Portanto, o número a de submarinos, que é inteiro, pertence ao intervalo

$$32,57 < a < 33,6$$

Então $a = 33$.

Opção D

Capítulo 17

Matemática 2008/2009

Questão 1

Solução: O preço de compra p_c das maçãs vale:

$$p_c = \frac{2,30}{3}$$

O preço de venda p_v das maçãs vale:

$$p_v = \frac{4,50}{5} \Rightarrow p_v = 0,90$$

O lucro com a venda de x maçãs será dado pela expressão:

$$(p_v - p_c) \cdot x = 10$$

Em que $(p_v - p_c)$ é o lucro por maçã vendida. Assim:

$$\left(0,9 - \frac{2,3}{3}\right) x = 10 \Rightarrow \frac{2,7 - 2,3}{3} \cdot x = 10$$

Continuando:

$$x = \frac{30}{0,4} \Rightarrow x = \frac{300}{4} \Rightarrow x = 75$$

Opção D

Questão 2

Solução: Se a pessoa deu 8,5% de entrada, significa que ela pagará 91,5% em cinco parcelas iguais, logo o valor p de cada parcela será:

$$p = \frac{\frac{91,5}{100} \cdot 150}{5}$$

$$p = \frac{\frac{915}{1000} \cdot 150}{5} \Rightarrow p = \frac{915 \cdot 15}{500} \Rightarrow p = \frac{915 \cdot 3}{100} \Rightarrow p = 27,45$$

Opção A

Questão 3

Solução: Antes de calcular o valor total da expressão, vamos achar a fração geratriz de $0,555\dots$. Seja x o valor que procuramos:

$$x = 0,555\dots$$

Multipliquemos por 10 ambos os lados da equação, então:

$$10x = 5,555\dots$$

Mas, reescrevendo o lado direito:

$$10x = 5 + 0,555\dots$$

Ou seja:

$$10x = 5 + x$$

Logo:

$$9x = 5 \Rightarrow x = \frac{5}{9}$$

Voltando na expressão:

$$\frac{\frac{5}{9} - \sqrt{0,25}}{\left(\frac{2}{3}\right)^2 \cdot 10^{-1}} = \frac{\frac{5}{9} - 0,5}{\frac{4}{9} \cdot \frac{1}{10}} = \frac{\frac{5}{9} - \frac{5}{10}}{\frac{4}{90}} = \frac{\frac{50-45}{90}}{\frac{4}{90}} = \frac{5}{4} = 1,25$$

Opção E

Questão 4

Solução: Do enunciado temos que:

$$\frac{a}{b} = \frac{1}{2} \Rightarrow 2a = b$$

Substituindo isto na expressão inicial teremos:

$$\left(\frac{a+b}{a-b}\right)^2 = \left(\frac{a+2a}{a-2a}\right)^2 = \left(\frac{3a}{-a}\right)^2 = (-3)^2 = 9$$

Opção B

Questão 5

Solução: O problema pode ser resolvido com uma regra de três simples:

Cimento	—	Tijolos
75	—	3000
40	—	x

Como as grandezas são diretamente proporcionais teremos:

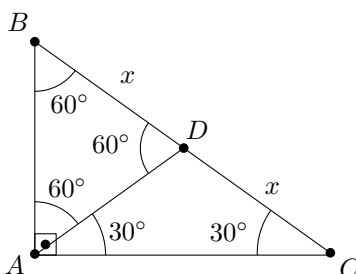
$$\frac{75}{40} = \frac{3000}{x} \Rightarrow x = \frac{40 \cdot 3000}{75} \Rightarrow x = 1600$$

Como 40 sacos de cimento equivalem a 1600 tijolos, o caminhão só poderá carregar mais 1400 tijolos.

Opção D

Questão 6

Solução: Como $\triangle ABD$ é equilátero, temos $\widehat{ABD} \cong \widehat{ADB} \cong \widehat{BAD} = 60^\circ$. E, como o triângulo ABC é retângulo em A , teremos $\widehat{DAC} \cong \widehat{DCA} = 30^\circ$.



Logo $\triangle ACD$ é isósceles; conseqüentemente:

$$\overline{AD} = \overline{BD} = \overline{CD} = x$$

Do enunciado:

$$BD + CD = 12 \Rightarrow 2x = 12 \Rightarrow x = 6$$

Como $\triangle ABD$ é equilátero $\overline{AB} = x = 6$.

Opção B

Questão 7

Solução: Calculando a área do retângulo teremos:

$$(4x - 2)(x + 3) = 144$$

Desenvolvendo:

$$4x^2 + 12x - 2x - 6 = 144$$

$$4x^2 + 10x - 150 = 0$$

Então:

$$\Delta = 10^2 - 4 \cdot 4 \cdot (-150) \Rightarrow \Delta = 100 + 2400 \Rightarrow \Delta = 2500$$

Logo:

$$x_{1,2} = \frac{-10 \pm \sqrt{2500}}{2 \cdot 4} \Rightarrow \begin{cases} x_1 = \frac{-10+50}{8} \Rightarrow x_1 = \frac{40}{8} \Rightarrow x_1 = 5 \\ x_2 = \frac{-10-50}{8} \Rightarrow x_2 = \frac{-60}{8} \Rightarrow x_2 = -\frac{15}{2} \end{cases}$$

As medidas do retângulo devem ser positivas:

$$\begin{cases} 4x - 2 > 0 \Rightarrow x > \frac{1}{2} \\ x + 3 > 0 \Rightarrow x > -3 \end{cases} \Rightarrow 'x > 0,5$$

Ou seja, $x = 5$ As medidas a e b do retângulo serão então:

$$a = 4x - 2 \Rightarrow a = 20 - 2 \Rightarrow a = 18$$

E

$$b = x + 3 \Rightarrow b = 5 + 3 \Rightarrow b = 8$$

O perímetro será então:

$$2p = 18 + 18 + 8 + 8 \Rightarrow 2p = 52$$

Opção B

Questão 8

Solução: Para que os valores sejam inteiros devemos ter K como múltiplo de 3, 4 e 5. Então o menor K será dado por:

$$\text{MMC}(3, 4, 5) = 60$$

Veja:

$$\begin{array}{r|l} 3, 4, 5 & 2 \\ 3, 2, 5 & 2 \\ 3, 1, 5 & 3 \\ 1, 1, 5 & 5 \\ \hline 1, 1, 1 & 4 \cdot 3 \cdot 5 = 60 \end{array}$$

Observação: Como 4 é múltiplo de 2, $\text{mmc}(2, 4) = 4$, por isso não o consideramos na solução. Porém caso queira pode incluí-lo e o resultado será o mesmo.

Opção E

Questão 9

Solução: Como o triângulo é retângulo e isósceles vale o teorema de Pitágoras:

$$(5\sqrt{2})^2 = x^2 + x^2 \Rightarrow 25 \cdot 2 = 2x^2 \Rightarrow x^2 = 25 \Rightarrow x = 5$$

Como queremos a soma dos catetos:

$$S = 5 + 5 \Rightarrow S = 10$$

Opção D

Questão 10

Solução: Calculando a expressão:

$$A - B = 2 + \sqrt{3} - \frac{2}{\sqrt{3} - 1}$$

$$A - B = \frac{(2 + \sqrt{3})(\sqrt{3} - 1) - 2}{\sqrt{3} - 1} = \frac{2\sqrt{3} - 2 + 3 - \sqrt{3} - 2}{\sqrt{3} - 1} = \frac{\sqrt{3} - 1}{\sqrt{3} - 1} = 1$$

Opção C

Questão 11

Solução: Vamos observar a expressão – chamaremos de E – dada:

$$E = b(a - b) + (b + a)(b - a) - a(b - a) + (b - a)^2$$

“Arrumando” a expressão teremos:

$$E = -b(b - a) + (b + a)(b - a) - a(b - a) + (b - a)(b - a)$$

Colocando $(b - a)$ em evidência:

$$E = (b - a)(-b + b + a - a + b - a)$$

$$E = (b - a)(b - a)$$

E, usando as propriedades de potenciação:

$$E = (b - a)^2 \Rightarrow E = [-(a - b)]^2 \Rightarrow E = (a - b)^2$$

Opção A

Questão 12

Solução: Seja a equação dada:

$$3 - \frac{1}{1 - \frac{1}{x}} = 1 \Rightarrow 3 - \frac{1}{\frac{x-1}{x}} = 1$$

Lembrando que neste caso, o conjunto-universo é \mathbb{R}^* , pois $x \neq 0$. Continuando:

$$3 - \frac{x}{x-1} = 1 \Rightarrow \frac{3(x-1) - x}{x-1} = 1$$

Mais uma vez, considerando o conjunto-universo, devemos ter $x - 1 \neq 0$, portanto, $x \neq 1$ e:

$$3x - 3 - x = x - 1 \Rightarrow x = 2$$

Opção C

Questão 13

Solução: Resolvendo a inequação dada:

$$\frac{3 + 5x}{6} < \frac{1}{4} + x$$

Fazendo o MMC:

$$\frac{2(3 + 5x)}{12} < \frac{3(1 + 4x)}{12} \Rightarrow 2(3 + 5x) < 3 + 12x$$

Observação: o denominador pode ser cancelado sem alterar a desigualdade porque o denominador das frações é positivo. Isto ocorre porque o que fizemos foi multiplicar a desigualdade por 12, que é positivo. Caso contrário, ou seja, se

multiplicássemos a igualdade por um número real negativo, deveríamos inverter a desigualdade para poder simplificar os denominadores.

$$6 + 10x < 3 + 12x \Rightarrow 10x - 12x < 3 - 6$$

Então:

$$-2x < -3 \Rightarrow x > \frac{3}{2}$$

Lembrando que $\frac{3}{2} = 1,5$, o menor inteiro que satisfaz as condições é, portanto, 2.

Opção E

Questão 14

Solução: Seja c o preço do CD e, d , o preço do DVD. De acordo com o enunciado temos:

$$\begin{cases} c + d = 24 \\ 3c + 4d = 87 \end{cases}$$

Multiplicando a primeira equação por 3:

$$\begin{cases} 3c + 3d = 72 \\ 3c + 4d = 87 \end{cases}$$

Subtraindo a segunda equação da primeira:

$$3c - 3c + 4d - 3d = 87 - 72 \Rightarrow d = 15$$

Portanto:

$$c + 15 = 24 \Rightarrow c = 9$$

Dividindo c por d :

$$\frac{c}{d} = \frac{9}{15} \Rightarrow \frac{c}{d} = \frac{3}{5}$$

Ou seja,

$$c = \frac{3}{5}d$$

Opção C

Questão 15

Solução: De acordo com o enunciado podemos escrever a seguinte equação:

$$3\sqrt{x} - 2 = x$$

Isolando o radical:

$$3\sqrt{x} = x + 2 \Rightarrow \sqrt{x} = \frac{x + 2}{3}$$

Elevando ambos os membros ao quadrado:

$$(\sqrt{x})^2 = \left(\frac{x + 2}{3}\right)^2 \Rightarrow x = \frac{x^2 + 4x + 4}{9}$$

Então:

$$9x = x^2 + 4x + 4 \Rightarrow x^2 - 5x + 4 = 0$$

Resolvendo esta equação do segundo grau:

$$\Delta = (-5)^2 - 4 \cdot 1 \cdot 4 \Rightarrow \Delta = 25 - 16 \Rightarrow \Delta = 9$$

Logo:

$$x_{1,2} = \frac{-(-5) \pm \sqrt{9}}{2 \cdot 1} \Rightarrow \begin{cases} x_1 = \frac{5+3}{2} \Rightarrow x_1 = \frac{8}{2} \Rightarrow x_1 = 4 \\ x_2 = \frac{5-3}{2} \Rightarrow x_2 = \frac{2}{2} \Rightarrow x_2 = 1 \end{cases}$$

Vamos testar os valores:

$$3\sqrt{x} - 2 = x \Rightarrow 3\sqrt{4} - 2 = 4 \Rightarrow 6 - 2 = 4 \rightarrow \text{Verdadeiro}$$

$$3\sqrt{x} - 2 = x \Rightarrow 3\sqrt{1} - 2 = 1 \Rightarrow 3 - 2 = 1 \rightarrow \text{Verdadeiro}$$

A soma S das raízes é portanto:

$$S = 1 + 4 \Rightarrow S = 5$$

Observação: O enunciado pode nos levar a escrever a equação da seguinte maneira:

$$3\sqrt{x - 2} = x$$

Isolando o radical:

$$\sqrt{x - 2} = \frac{x}{3}$$

Elevando ambos os membros ao quadrado:

$$(\sqrt{x - 2})^2 = \left(\frac{x}{3}\right)^2 \Rightarrow x - 2 = \frac{x^2}{9}$$

$$9x - 18 = x^2 \Rightarrow x^2 - 9x + 18 = 0$$

Resolvendo esta equação do segundo grau:

$$\Delta = (-9)^2 - 4 \cdot 1 \cdot 18 \Rightarrow \Delta = 81 - 72 \Rightarrow \Delta = 9$$

Logo:

$$x_{1,2} = \frac{-(-9) \pm \sqrt{9}}{2 \cdot 1} \Rightarrow \begin{cases} x_1 = \frac{9+3}{2} \Rightarrow x_1 = \frac{12}{2} \Rightarrow x_1 = 6 \\ x_2 = \frac{9-3}{2} \Rightarrow x_2 = \frac{6}{2} \Rightarrow x_2 = 3 \end{cases}$$

Vamos testar os valores:

$$3\sqrt{x} - 2 = x \Rightarrow 3\sqrt{6} - 2 = 6 \Rightarrow \sqrt{6} = \frac{8}{3} \rightarrow \text{Falso}$$

$$3\sqrt{x} - 2 = x \Rightarrow 3\sqrt{3} - 2 = 3 \Rightarrow \sqrt{3} = \frac{5}{3} \rightarrow \text{Falso}$$

Não há, portanto, soma das raízes. A primeira interpretação é a correta, basta notar que há uma vírgula logo após "... positivo x ". Tenha cuidado.

Opção D

Capítulo 18

Matemática 2009/2010

Questão 1

Solução: A área da região hachurada será a diferença entre as áreas dos dois quadrados, ou seja:

$$S = 5^2 - 3^2$$

Daí:

$$S = 25 - 9 \Rightarrow S = 16 \text{ cm}^2$$

Opção A

Questão 2

Solução: Sejam a e b os lados não conhecidos na figura e $2p$ o perímetro. Observando a figura, vemos que:

$$\begin{cases} a + b = x \\ x - 2 = 4 + 1 \end{cases}$$

Daí, podemos concluir:

$$x - 2 = 5 \Rightarrow x = 7$$

O perímetro será então:

$$2p = x - 2 + a + b + 1 + 4 + x$$

Portanto:

$$2p = 7 - 2 + 7 + 5 + 7 \Rightarrow 2p = 24$$

Opção A

Questão 3

Solução: Vamos substituir os valores de a e b na expressão dada:

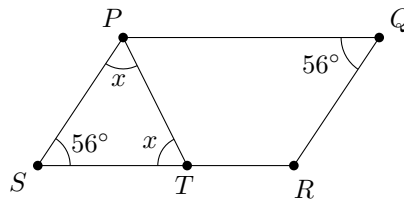
$$\sqrt[3]{\frac{(a+b)ab}{a-b}} = \sqrt[3]{\frac{(12+6)12 \cdot 6}{12-6}} = \sqrt[3]{\frac{18 \cdot 12 \cdot 6}{6}} = \sqrt[3]{18 \cdot 12}$$

Fatorando 18 e 12:

$$\sqrt[3]{18 \cdot 12} = \sqrt[3]{2 \cdot 3^2 \cdot 2^2 \cdot 3} = \sqrt[3]{2^3 \cdot 3^3} = 2 \cdot 3 = 6$$

Opção B**Questão 4**

Solução: Como o quadrilátero $PQRS$ é um paralelogramo devemos ter $P\hat{Q}R \cong P\hat{S}R$, pois esta é uma propriedade dos paralelogramos. Como ΔPST é isósceles, teremos $S\hat{T}P \cong S\hat{P}T = x$:



Então, no triângulo PTS podemos somar os ângulos internos:

$$56^\circ + x + x = 180^\circ$$

Concluindo:

$$2x = 180^\circ - 56^\circ \Rightarrow x = 62^\circ$$

Opção D**Questão 5**

Solução: Os azulejos são quadrados de lado 15 cm, então cada azulejo terá como área:

$$S = 15 \cdot 15 \Rightarrow S = 225 \text{ cm}^2$$

Como foram necessários 640 azulejos:

$$S_T = 640 \cdot 225 \Rightarrow S_T = 144000 \text{ cm}^2$$

Como 1 m são 100 cm, 1 m² equivale a 10000 cm². Sendo assim, passando o resultado anterior de centímetros para metros quadrados:

$$S_T = \frac{144000}{10000} \Rightarrow S_T = 14,4 \text{ m}^2$$

Opção B

Questão 6

Solução: A soma das raízes de uma equação da forma $ax^2 + bx + c = 0$ é

$$S = -\frac{b}{a}$$

Da equação dada temos:

$$-\frac{-(k+6)}{k-1} = 8$$

Não podemos esquecer que:

$$k - 1 \neq 0 \Rightarrow k \neq 1$$

Então:

$$k + 6 = 8(k - 1) \Rightarrow k + 6 = 8k - 8 \Rightarrow 7k = 14 \Rightarrow k = 2$$

Opção E

Questão 7

Solução: Vamos analisar cada opção:

(A) Verdadeira.

Desenvolvendo o membro direito da equação:

$$(a - b)(a - b) = a^2 - ab - ab + b^2 = a^2 - 2ab + b^2$$

(B) Verdadeira.

Desenvolvendo o membro direito da equação:

$$(a + b)(a + b) = a^2 + ab + ab + b^2 = a^2 + 2ab + b^2$$

(C) Falsa.

Desenvolvendo o membro direito da equação:

$$(a + b)(a + b) = a^2 + ab + ab + b^2 = a^2 + 2ab + b^2$$

(D) Verdadeira.

Desenvolvendo o membro direito da equação:

$$(a + b)(a - b) = a^2 - ab + ab - b^2 = a^2 - b^2$$

(E) Verdadeira.

Desenvolvendo o membro direito da equação:

$$\begin{aligned} (a^2 + b^2)(a + b)(a - b) &= (a^2 + b^2)(a^2 - ab + ab - b^2) = \\ &= (a^2 + b^2)(a^2 - b^2) = a^4 - b^4 \end{aligned}$$

Opção C

Questão 8

Solução: Vamos resolver cada expressão em separado:

$$M = \left(\frac{1}{2} + \frac{2}{3}\right) \times \frac{4}{7} = \left(\frac{3+4}{6}\right) \times \frac{4}{7} = \frac{4}{6} = \frac{2}{3}$$

E

$$N = \left(\frac{2}{3} - \frac{2}{9}\right) : \frac{2}{3} = \left(\frac{6-2}{9}\right) : \frac{2}{3} = \frac{4}{9} \times \frac{3}{2} = \frac{2}{3}$$

Ou seja,

$$M = N$$

Opção A

Questão 9

Solução: Vamos desenvolver a inequação dada:

$$2(x + 1) - (x - 2) > 3(x - 2)$$

Logo:

$$2x + 2 - x + 2 > 3x - 6 \Rightarrow x + 4 > 3x - 6 \Rightarrow -2x > -10 \Rightarrow x < 5$$

Opção B

Questão 10

Solução: Vamos montar o algoritmo de chave para os dados do enunciado:

$$\begin{array}{r|l} D & 58 \\ R & 69 \end{array}$$

O resto R é o maior possível, que deve ser menor do que 58. Logo R vale 57 e podemos escrever:

$$D = 58 \cdot 69 + 57 \Rightarrow D = 4059$$

Opção B**Questão 11**

Solução: Sabemos que:

$$1,5\% = \frac{1,5}{100} = \frac{15}{1000}$$

Como a taxa é de juros simples teremos:

$$\frac{15}{1000} \cdot 2000 = 30$$

Para 1 ano e 8 meses (20 meses):

$$j = 30 \cdot 20 \Rightarrow j = 600$$

Opção C**Questão 12**

Solução: A figura é um triângulo retângulo, podemos então aplicar o teorema de Pitágoras:

$$10^2 = 6^2 + x^2 \Rightarrow x = \sqrt{100 - 36} \Rightarrow x = 8$$

Opção D**Questão 13**

Solução: Fatorando 70 encontramos:

$$70 = 2 \cdot 5 \cdot 7$$

Assim, o maior divisor primo de 70 é 7 e, o menor, 2. A soma, portanto, vale 9 que é quadrado perfeito.

Opção C**Questão 14**

Solução: Vamos montar o algoritmo de chave:

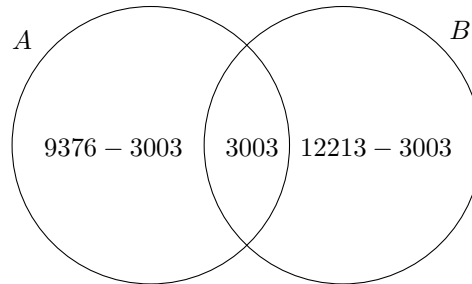
$$\begin{array}{r|l} P(x) & x^2 + 1 \\ 3 & 3x + 2 \end{array}$$

então:

$$P(x) = (3x + 2)(x^2 + 1) + 3$$

Logo:

$$P(x) = 3x^3 + 3x + 2x^2 + 2 + 3 \Rightarrow P(x) = 3x^3 + 2x^2 + 3x + 5$$

Opção E**Questão 15****Solução:** Veja o diagrama de Venn abaixo:

O número de pessoas que respondeu a pesquisa foi:

$$n = 9376 - 3003 + 3003 + 12213 - 3003 \Rightarrow n = 9376 + 9210 \Rightarrow n = 18586$$

Opção D

Capítulo 19

Matemática 2010/2011

Questão 1

Solução: Convém lembrar que uma dúzia equivale a 12 unidades e, portanto, 12 dúzias equivalem a $12 \times 12 = 144$ unidades. Pelos dados do problema, podemos montar a seguinte regra de três simples e direta:

$$\begin{array}{rcl} 1 \text{ grossa} & \text{---} & 144 \text{ unidades} \\ 10 \text{ grossas} & \text{---} & x \text{ unidades} \end{array}$$

Efetuada a multiplicação teremos:

$$x = 10 \cdot 144 \Rightarrow x = 1440 \text{ unidades}$$

Opção B

Questão 2

Solução: O problema em questão equivale a um sistema de equações do primeiro grau. Seja m_1 o total de moedas de R\$ 0,10 e m_5 o total de moedas de R\$ 0,50. Então podemos montar as seguintes equações:

$$\text{Total de moedas: } m_1 + m_5 = 20$$

$$\text{Total em dinheiro: } 0,10 \cdot m_1 + 0,50 \cdot m_5 = 5,20$$

Isolando m_1 na primeira equação:

$$m_1 = 20 - m_5$$

Substituindo na segunda equação:

$$0,1 \underbrace{(20 - m_5)}_{m_1} + 0,5 \cdot m_5 = 5,20 \Rightarrow 2 - 0,1 \cdot m_5 + 0,5 \cdot m_5 = 5,20$$

Então:

$$0,4 \cdot m_5 = 3,20 \Rightarrow m_5 = \frac{3,20}{0,4} \Rightarrow m_5 = 8$$

Voltando a qualquer das equações:

$$m_1 = 20 - 8 \Rightarrow m_1 = 12$$

Opção D

Questão 3

Solução: Do próprio enunciado, podemos definir a velocidade v como sendo:

$$v = \frac{d}{t}$$

Como a velocidade pedida está em km/h, precisamos colocar a distância d em km e o tempo t em horas, assim:

$$d = 4500 \text{ m} \Rightarrow d = 4,5 \text{ km}$$

E

$$t = 900 \text{ min} \Rightarrow t = \frac{900}{60} \Rightarrow t = 15 \text{ h}$$

Substituindo estes dados na equação da velocidade:

$$v = \frac{4,5}{15} \Rightarrow v = \frac{45}{10} \cdot \frac{1}{15} \Rightarrow v = 0,3 \text{ km/h}$$

Opção E

Questão 4

Solução 1: Podemos fazer a seguinte regra de três simples:

$$\begin{array}{rcl} 2300 & \text{—} & 100\% \\ x & \text{—} & 80\% \end{array}$$

Efetuando as multiplicações:

$$x \cdot 100\% = 2300 \cdot 80\%$$

Como $80\% = \frac{80}{100}$, podemos escrever:

$$x = \frac{2300 \cdot 80}{100} \Rightarrow x = 23 \cdot 80 \Rightarrow x = 1840$$

Solução 2: Podemos escrever a seguinte equação, na qual x representa o preço à vista:

$$x = 2300 - \frac{20}{100} \cdot 2300$$

Resolvendo:

$$x = 2300 - 460 \Rightarrow x = 1840$$

A televisão à vista custa R\$ 1.840,00.

Opção E

Questão 5

Solução: Como queremos que

$$(x - 3)(x + 1) = 5x - 13$$

Basta resolver esta equação. Então, efetuando a propriedade distributiva da multiplicação do lado esquerdo:

$$x^2 + x - 3x - 3 = 5x - 13 \Rightarrow x^2 - 7x + 10 = 0$$

Solucionando a equação do segundo grau:

$$\Delta = (-7)^2 - 4 \cdot 1 \cdot 10 \Rightarrow \Delta = 9$$

Logo:

$$x_{1,2} = \frac{-(-7) \pm \sqrt{9}}{2 \cdot 1} \Rightarrow \begin{cases} x_1 = \frac{7+3}{2} \Rightarrow x_1 = 5 \\ x_2 = \frac{7-3}{2} \Rightarrow x_2 = 2 \end{cases}$$

O que nos dá $x = 2$ ou $x = 5$. Os dois valores são primos.

Opção B

Questão 6

Solução: O Teorema de Pitágoras nos diz que:

Em um triângulo retângulo, o maior lado, chamado de hipotenusa, ao quadrado é igual a soma dos quadrados dos outros lados, chamados de catetos.

Podemos então escrever:

$$y^2 = x^2 + z^2$$

Opção D

Questão 7

Solução: Podemos, em questões como essa, apenas substituir o valor dado, embora isso seja muito trabalhoso. Uma maneira mais simples de resolver o problema é tentar fatorar o numerador:

$$\frac{x^2(x+1) - 4(x+1)}{(x+1)(x-2)} = \frac{(x+1)(x^2-4)}{(x+1)(x-2)} = \frac{(x^2-4)}{(x-2)}$$

Sabemos que:

$$a^2 - b^2 = (a + b)(a - b)$$

Aplicando ao numerador:

$$\frac{(x-2)(x+2)}{x-2}$$

Substituindo agora o valor de x teremos 989.

Opção C

Questão 8

Solução: Por inspeção, podemos ver que o maior número a ser formado é aquele que contém 9 no algarismo das dezenas e 5 no algarismo das unidades.

Opção D

Questão 9

Solução: Seja x o peso da tora de madeira. Podemos então escrever a equação:

$$x + \frac{x}{2} = 27$$

Calculando o M.M.C. teremos:

$$\frac{2x + x}{2} = 27 \Rightarrow 3x = 54 \Rightarrow x = 18 \text{ kg}$$

Opção E

Questão 10

Solução: Seja x o número que deverá ser adicionado. Do enunciado:

$$2009^2 + x = 2010^2 \Rightarrow x = 2010^2 - 2009^2$$

Podemos fatorar o lado direito da equação, que é uma diferença de quadrados, lembre-se que:

$$a^2 - b^2 = (a - b)(a + b)$$

Logo:

$$x = (2010 - 2009) \cdot (2010 + 2009) \Rightarrow x = 4019$$

Opção C

Questão 11

Solução: Como uma observação, matematicamente, é incorreto dizer que $x^2 - 5x + 6$ é uma equação, pois não há igualdade. Para resolver o problema, vamos reescrever como sendo:

$$x^2 - 5x + 6 = 0$$

Como sabemos, a soma das raízes de uma equação do segundo grau do tipo $ax^2 + bx + c = 0$ é dada por $S = -\frac{b}{a}$ e o produto das raízes é dado por $P = \frac{c}{a}$. Sendo assim, podemos calcular SP como sendo:

$$SP = -\frac{b}{a} \cdot \frac{c}{a}$$

Substituindo os valores de a , b e c tem-se:

$$SP = -\frac{(-5)}{1} \cdot \frac{6}{1} \Rightarrow SP = 30$$

Opção A

Questão 12

Solução: A soma dos ângulos internos de um triângulo é dada por:

$$\widehat{A} + \widehat{B} + \widehat{C} = 180^\circ$$

Do enunciado do problema temos $\widehat{A} = 2\widehat{B}$ e $\widehat{C} = 3\widehat{A}$. Escrevendo todos os ângulos em função do ângulo do vértice B :

$$\underbrace{2\widehat{B}}_{\widehat{A}} + \widehat{B} + 3 \underbrace{\left(2\widehat{B}\right)}_{\widehat{C}} = 180^\circ$$

Logo:

$$9\widehat{B} = 180^\circ \Rightarrow \widehat{B} = 20^\circ$$

Substituindo o valor encontrado achamos para os outros ângulos:

$$\widehat{A} = 40^\circ \quad \text{e} \quad \widehat{C} = 120^\circ$$

O menor ângulo é, portanto, o do vértice B .

Opção C

Questão 13

Solução: A figura 19.1 representa o problema em questão.

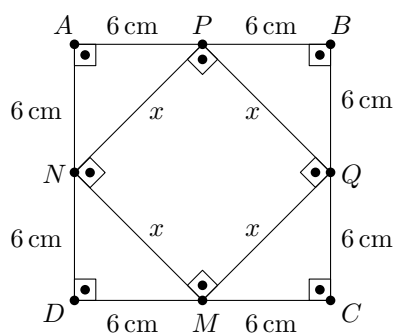


Figura 19.1: Resolução da questão 13

P , Q , M e N são os pontos médios dos lados do quadrado. Note que:

$$\triangle APN \cong \triangle BPQ \cong \triangle CMQ \cong \triangle DMN$$

Todos os triângulos são isósceles e retângulos. Além disso:

$$\widehat{APN} + \widehat{NPQ} + \widehat{BPQ} = 180^\circ$$

Daí:

$$45^\circ + \widehat{NPQ} + 45^\circ = 180^\circ \Rightarrow \widehat{NPQ} = 90^\circ$$

Assim, $PQMN$ é um quadrado de lado x . Como APN é um triângulo retângulo em A , podemos obter o valor de x aplicando o teorema de Pitágoras:

$$NP^2 = AP^2 + AN^2$$

Substituindo os valores:

$$x^2 = 6^2 + 6^2 \Rightarrow x^2 = 36 + 36 \Rightarrow x^2 = 72 \Rightarrow x = 6\sqrt{2}$$

Assim, unindo-se os pontos médios de um quadrado de lado 12 m, obtemos um novo quadrado de lado $6\sqrt{2}$ m. A área será, portanto:

$$S = (6\sqrt{2})^2 \Rightarrow S = 72 \text{ m}^2$$

Opção A**Questão 14**

Solução: Sejam a , b e c os lados de um triângulo, em que $a > b > c$. Seu perímetro é:

$$2p = a + b + c$$

Para que um triângulo exista, cada lado deve ser maior que a diferença e menor que a soma dos outros dois, podemos então escrever:

$$b - c < a < b + c$$

Ou seja, da equação do perímetro:

$$2p - a = b + c$$

Assim:

$$a < 2p - a \Rightarrow 2a < 12 \Rightarrow a < 6$$

O maior valor para a é, portanto, 5.

Opção A**Questão 15**

Solução: O problema em questão é resolvido usando uma regra de três composta que pode ser esquematizada como abaixo:

Número de copiadoras	Total de cópias	Tempo gasto (em h)
1	12000	12
x	12000	4

Como o número de cópias é mantido constante, basta observar o tempo gasto para realizar as cópias. O tempo gasto é inversamente proporcional ao número de copiadoras. Então, como o número de horas é 3 vezes menor, o número de copiadoras é 3 vezes maior:

$$1 \cdot 12 = 4x \Rightarrow x = \frac{12}{4} \Rightarrow x = 3 \text{ copiadoras}$$

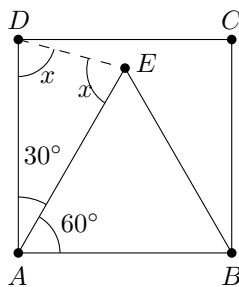
Opção B

Capítulo 20

Matemática 2011/2012

Questão 1

Solução: Sabemos que ABE é um triângulo equilátero, logo \widehat{EAB} vale 60° e \widehat{EAD} vale 30° , pois $ABCD$ é um quadrado. Como do enunciado $\overline{AD} \cong \overline{AE}$ (são congruentes), ADE é isósceles como mostra a figura abaixo:



Como a soma dos ângulos internos de um triângulo vale 180° :

$$30^\circ + x + x = 180^\circ \Rightarrow 2x = 180^\circ - 30^\circ \Rightarrow x = 75^\circ$$

Opção C

Questão 2

Solução: Queremos calcular a seguinte soma:

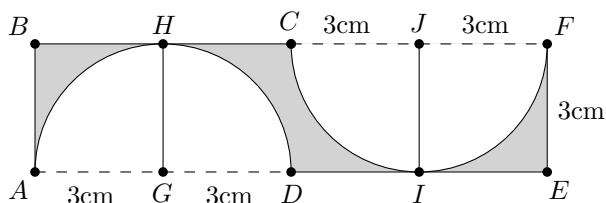
$$(-50) + (-49) + \dots + 0 + \dots + 49 + 50 + 51$$

Ou seja, só “sobram” 0 e 51, pois os simétricos se cancelam.

Opção E

Questão 3

Solução: Traçando os segmentos \overline{GH} , \overline{CD} e \overline{IJ} , todos paralelos aos lados \overline{AB} e \overline{EF} do retângulo temos a figura abaixo:



Agora basta fazer a área do retângulo subtraída da área de um círculo (duas meitades de círculo) de raio 3 cm:

$$S = 12 \times 3 - \pi \cdot 3^2 \Rightarrow S = 36 - 9\pi \text{ cm}^2$$

Opção B

Observação: O problema não diz que C e D estão na mesma perpendicular, ou seja alinhados verticalmente, entretanto, não haverá opção de resposta se isso não acontecer.

Questão 4

Solução: Como o número deve ser divisível por 3 a soma de seus algarismos deve ser da forma $3k$, onde k é inteiro e positivo, devemos ter

$$3 + 0 + 4 + 5 + X + 8 = 3k \Rightarrow X + 20 = 3k$$

Substituindo os possíveis de k :

$$k = 0 \Rightarrow X + 20 = 3 \cdot 0 \Rightarrow X = -20$$

$$k = 1 \Rightarrow X + 20 = 3 \cdot 1 \Rightarrow X = -17$$

$$k = 2 \Rightarrow X + 20 = 3 \cdot 2 \Rightarrow X = -14$$

$$k = 3 \Rightarrow X + 20 = 3 \cdot 3 \Rightarrow X = -11$$

$$k = 4 \Rightarrow X + 20 = 3 \cdot 4 \Rightarrow X = -8$$

$$k = 5 \Rightarrow X + 20 = 3 \cdot 5 \Rightarrow X = -5$$

$$k = 6 \Rightarrow X + 20 = 3 \cdot 6 \Rightarrow X = -2$$

$$k = 7 \Rightarrow X + 20 = 3 \cdot 7 \Rightarrow X = 1$$

$$k = 8 \Rightarrow X + 20 = 3 \cdot 8 \Rightarrow X = 4$$

$$k = 9 \Rightarrow X + 20 = 3 \cdot 9 \Rightarrow X = 7$$

Como X está entre 0 e 9, só há três valores possíveis para X . A soma destes valores é:

$$1 + 4 + 7 = 12$$

Opção A

Questão 5

Solução: Basta uma regra de três simples:

Acertos	—	Nota
15	—	10
6	—	x

Colocando em frações:

$$\frac{15}{6} = \frac{10}{x} \Rightarrow x = \frac{60}{15} \Rightarrow x = 4$$

Opção D

Questão 6

Solução: Seja $g = 3$ o grau do polinômio original. Como elevamos à 5^{a} potência, o novo polinômio terá grau $g' = 3 \cdot 5 \Rightarrow g' = 15$. Uma forma simples de verificar é calcular:

$$\left(\frac{7}{11}x^3 - \sqrt{5}\right)^5 = \underbrace{\left(\frac{7}{11}x^3 - \sqrt{5}\right) \cdot \left(\frac{7}{11}x^3 - \sqrt{5}\right) \cdot \dots \cdot \left(\frac{7}{11}x^3 - \sqrt{5}\right)}_{5 \text{ parcelas}}$$

Observação: De maneira geral, se dois polinômios p e q possuem graus m e n , respectivamente, o polinômio pq terá grau $m + n$. No caso de $\frac{p}{q}$, teremos grau $m - n$ com $m > n$. Para a soma $p + q$ o grau será no máximo o maior grau entre os graus m e n de cada polinômio.

Para facilitar vamos omitir algumas parcelas, pois a maior potência virá do produto de todas as primeiras parcelas de cada binômio:

$$\left(\frac{7}{11}x^3 - \sqrt{5}\right)^5 = \frac{7}{11}x^3 \cdot \frac{7}{11}x^3 \cdot \frac{7}{11}x^3 \cdot \frac{7}{11}x^3 \cdot \frac{7}{11}x^3 + \dots$$

Logo:

$$\left(\frac{7}{11}x^3 - \sqrt{5}\right)^5 = \frac{7^5}{11^5}x^{15} + \dots$$

Opção D

Questão 7

Solução: Vamos isolar x na equação dada:

$$2x + 13 = 4y + 9 \Rightarrow 2x = 4y + 9 - 13 \Rightarrow x = \frac{4y - 4}{2}$$

Multiplicando por 6 ambos os lados da equação:

$$6x = 6 \cdot \frac{4y - 4}{2} \Rightarrow 6x = 12y - 12$$

Subtraindo 6 de ambos os lados:

$$6x - 6 = 12y - 12 - 6 \Rightarrow 6x - 6 = 12y - 18$$

Opção A

Questão 8

Solução: Seja E a expressão dada:

$$E = \sqrt{96 + \sqrt{7 + \sqrt{81}}}$$

Desenvolvendo:

$$E = \sqrt{96 + \sqrt{7 + \sqrt{81}}} = \sqrt{96 + \sqrt{7 + 9}}$$

Logo:

$$E = \sqrt{96 + \sqrt{16}} = \sqrt{96 + 4} = \sqrt{100} = 10$$

Opção E

Questão 9

Solução: No nível de número 20, a altura total h é igual a diagonal do quadrado de lado 10 multiplicado por 20, já que são vinte níveis. A diagonal de um quadrado de lado ℓ vale $\ell\sqrt{2}$, então:

$$h = 20 \cdot 10\sqrt{2}$$

Como, pelo enunciado $\sqrt{2} \approx 1,41$ teremos:

$$h \approx 200 \cdot 1,41 \Rightarrow h \approx 282,84 \text{ cm}$$

Em metros $h \approx 2,8 \text{ m}$

Opção C

Questão 10

Solução: Seja x a quantidade de pessoas na sala de espera. De acordo com enunciado:

$$x + \frac{x}{2} + 1 = 16 \Rightarrow \frac{2x + x}{2} = 16 - 1$$

Então:

$$\frac{3x}{2} = 15 \Rightarrow 3x = 30 \Rightarrow x = 10$$

Havia, então, 10 pessoas na sala de espera.

Opção D

Questão 11

Solução: Vamos calcular o perímetro $2p$ do retângulo:

$$2p = 12 + 30 + 12 + 30 \Rightarrow 2p = 84 \text{ m}$$

O número de voltas completas n pode ser calculado dividindo-se o comprimento total de arame pelo perímetro:

$$n = \frac{350}{84} \Rightarrow n \approx 4,167$$

Ou seja, 4 voltas completas.

Opção C

Questão 12

Solução: Usando somente os segmentos destacados na figura, temos os seguintes triângulos: ABC , ABD , BCE , ABE , e ADE . Uma observação válida para este tipo de problema é que devemos ter um “método de contagem”. Neste exemplo, em particular podemos simplesmente pensar primeiro em todos os triângulos com vértice no ponto E . Vemos que são três ao todo. Reparamos ainda que há apenas dois triângulos nos quais E não é vértice. Isto nos faz garantir que não há mais que 5 triângulos.

Opção E**Questão 13****Solução:** Sabemos que:

$$(a + b)^2 = a^2 + 2ab + b^2$$

Fazendo $a = 0,11$ e $b = 0,89$:

$$(0,11)^2 + 2 \cdot (0,11) \cdot (0,89) + (0,89)^2 = (0,11 + 0,89)^2$$

$$(0,11)^2 + 2 \cdot (0,11) \cdot (0,89) + (0,89)^2 = (1)^2$$

$$(0,11)^2 + 2 \cdot (0,11) \cdot (0,89) + (0,89)^2 = 1$$

Opção B**Questão 14****Solução:** Ele errou primeiro na LINHA 2 fazendo o “cancelamento” das duas primeiras parcelas. Ele deveria escrever: $4 + 4 - 4$ e não $4 - 4 - 4$.**Opção B****Questão 15****Solução:** A resolução consiste de uma regra de três simples e inversa, relacionada ao comprimento de uma circunferência:

Raio		Distância
$2\pi \cdot 1$	—	x
$2\pi \cdot \frac{1}{2}$	—	1 km

Colocando em forma de fração:

$$\frac{2\pi \cdot 1}{2\pi \cdot \frac{1}{2}} = \frac{1}{x} \Rightarrow x = \frac{1}{2} \Rightarrow x = 0,5 \text{ km}$$

Opção E

Capítulo 21

Matemática 2012/2013

Questão 1

Solução: Para solucionar o problema basta usar o seno do ângulo de 30° :

$$\operatorname{sen} 30^\circ = \frac{h}{1,2} \Rightarrow h = \frac{1,2}{2} \Rightarrow h = 0,6 \text{ km}$$

Passando para metros temos $h = 600$ m.

Opção B

Questão 2

Solução: Fatorando a expressão dada pelo problema teremos:

$$ab^2 + a^2b = ab(a + b)$$

Como a e b são as raízes da equação do segundo grau, ab representa o produto das raízes e $a + b$ o produto das raízes. Usando as relações de soma e produto das raízes de uma equação do segundo grau:

$$a + b = -\frac{-4}{1} \Rightarrow a + b = 4$$

E

$$ab = \frac{2}{1} \Rightarrow ab = 2$$

Então:

$$ab(a + b) = 4 \cdot 2 \Rightarrow ab(a + b) = 8$$

Opção E

Questão 3

Solução: Podemos reescrever a equação do enunciado como sendo:

$$\sqrt{1 + 4x} = 1 - x$$

Eleando ambos os membros da equação ao quadrado:

$$1 + 4x = (1 - x)^2 \Rightarrow 1 + 4x = 1 - 2x + x^2 \Rightarrow x^2 = 6x$$

Logo:

$$x^2 - 6x = 0 \Rightarrow x(x - 6) = 0$$

Portanto, $x = 0$ ou $x = 6$. Mas para $x = 6$ a igualdade não se verifica, logo $x = 0$.

Opção A

Questão 4

Solução: Se seis torneiras precisam de 420 minutos, uma única torneira precisaria de $6 \times 420 = 2520$ minutos. Assim, usando dez torneiras, só seriam necessários $2520 \div 10 = 252$ minutos.

Opção D

Questão 5

Solução: Sabemos que a área A de uma circunferência de raio r é dada por $A = \pi r^2$. Então, a área A_1 da circunferência menor será:

$$A_1 = \pi r_1^2 \Rightarrow A_1 = \pi \cdot (2)^2 \Rightarrow A_1 = 4\pi \text{ cm}^2$$

O raio da maior, em centímetros, vale $r_2 = 4$ cm e, calculando sua área:

$$A_2 = \pi r_2^2 \Rightarrow A_2 = \pi \cdot (4)^2 \Rightarrow A_2 = 16\pi \text{ cm}^2$$

A área da coroa será:

$$A_2 - A_1 = 16\pi - 4\pi \Rightarrow A_2 - A_1 = 12\pi \text{ cm}^2$$

Opção A

Questão 6

Solução: Se os ângulos são alternos internos, podemos escrever:

$$\frac{x}{2} + 30^\circ = \frac{3x}{5} + 15^\circ \Rightarrow \frac{x}{2} - \frac{3x}{5} = 15^\circ - 30^\circ$$

Igualando os denominadores:

$$\frac{5x - 6x}{10} = -15^\circ \Rightarrow -x = -150^\circ \Rightarrow x = 150^\circ$$

Assim, cada ângulo mede:

$$\frac{x}{2} + 30^\circ = \frac{150^\circ}{2} + 30 = 105^\circ$$

O suplemento vale, portanto, $180^\circ - 105^\circ = 75^\circ$.

Opção A

Questão 7

Solução 1: Reescrevendo a equação dada:

$$\frac{(a+b)^2 - a - b}{a^2 + ab - a} = 3 \Rightarrow \frac{(a+b)(a+b) - (a+b)}{a(a+b) - a} = 3$$

Continuando:

$$\frac{(a+b)(a+b-1)}{a(a+b-1)} = 3$$

O enunciado não diz isso, mas considerando $a+b \neq 1$:

$$\frac{a+b}{a} = 3 \Rightarrow a+b = 3a \Rightarrow \frac{a}{b} = \frac{1}{2}$$

Solução 2: Desenvolvendo a equação dada:

$$\frac{(a+b)^2 - a - b}{a^2 + ab - a} = 3 \Rightarrow \frac{a^2 + 2ab + b^2 - a - b}{a^2 + ab - a} = 3$$

Logo:

$$a^2 + 2ab + b^2 - a - b = 3a^2 + 3ab - 3a$$

Colocando todas as incógnitas do lado esquerdo:

$$a^2 + 2ab + b^2 - a - b - 3a^2 - 3ab + 3a = 0$$

Simplificando os termos semelhantes:

$$-2a^2 - ab + b^2 + 2a - b = 0$$

Podemos reescrever como:

$$-2a^2 - (b-2)a + b^2 - b = 0$$

Que é uma equação do segundo grau em a . Logo:

$$\Delta = [-(b-2)]^2 - 4 \cdot (-2) \cdot (b^2 - b)$$

Daí:

$$\Delta = b^2 - 4b + 4 + 8b^2 - 8b \Rightarrow \Delta = 9b^2 - 12b + 4$$

Fatorando o discriminante:

$$\Delta = (3b - 2)^2$$

Logo teremos:

$$a_{1,2} = \frac{-[-(b-2)] \pm \sqrt{(3b-2)^2}}{2 \cdot (-2)}$$

Então:

$$a_1 = \frac{b-2+3b-2}{-4} \cdot a_1 = \frac{4b-4}{-4}$$

Neste caso:

$$-4a_1 = 4b - 4 \Rightarrow a_1 + b = 1$$

Que não nos serve como solução, como já vimos anteriormente, pois não faz parte do conjunto universo. Ou:

$$a_2 = \frac{b-2-3b+2}{-4} \Rightarrow a_2 = \frac{-2b}{-4}$$

Neste caso:

$$\frac{a_2}{b} = \frac{1}{2}$$

Que foi o que encontramos, com muito menos esforço na solução 1.

Opção C

Questão 8

Solução: Lembrando que para multiplicar dois ou mais radicais com o mesmo índice só precisamos multiplicar os radicandos, encontraremos a solução multiplicando os termos da expressão:

$$E = \sqrt{(2 + \sqrt{3})(2 - \sqrt{3})}$$

Lembrando que o produto $(a - b)(a + b) = a^2 - b^2$:

$$E = \sqrt{4 - 3} \Rightarrow E = 1$$

Opção D

Questão 9

Solução: Vamos dividir usando o método da chave:

$$\begin{array}{r|l}
 5x^4 - 3x^2 + 6x - 1 & x^2 + x + 1 \\
 -5x^4 - 5x^3 - 5x^2 & 5x^2 - 5x - 3 \\
 \hline
 -5x^3 - 8x^2 + 6x - 1 & \\
 +5x^3 + 5x^2 + 5x & \\
 \hline
 -3x^2 + 11x - 1 & \\
 3x^2 + 3x + 3 & \\
 \hline
 14x + 2 &
 \end{array}$$

Assim temos $r(x) = 14x + 2$, logo $r(-1) = -12$ e, ainda, $q(x) = 5x^2 - 5x - 3$, portanto, $q(-1) = 7$.

Opção D**Questão 10**

Solução: Primeiro colocamos todos os lados com a mesma unidade de medida, ou seja, 13 cm, 5 cm e 12 cm. Fica evidente que a hipotenusa é 13 cm. Logo a área será:

$$\frac{5 \times 12}{2} = 30 \text{ cm}^2$$

Opção B**Questão 11**

Solução: A diferença $x_1 - x_2$ entre as raízes reais de uma equação do segundo grau pode ser calculada usando a expressão:

$$x_1 - x_2 = \frac{\sqrt{\Delta}}{a}$$

Sendo $x_1 > x_2$. Daí:

$$x_1 - x_2 = \frac{\sqrt{(2k)^2 - 4 \cdot 1 \cdot 16}}{1}$$

Continuando:

$$\sqrt{(2k)^2 - 4 \cdot 1 \cdot 16} = 6 \Rightarrow 4k^2 - 64 = 36$$

Assim:

$$4k^2 = 100 \Rightarrow k^2 = 25 \Rightarrow k = \pm 5$$

Como $k > 0$, temos $k = 5$.

Opção D

Questão 12

Solução: Se os ângulos são proporcionais aos lados a 2, 7 e 9, podemos escrevê-los como $2x$, $7x$ e $9x$. Como a soma dos ângulos internos vale 180° :

$$2x + 7x + 9x = 180^\circ \Rightarrow 18x = 180^\circ \Rightarrow x = 10^\circ$$

O menor ângulo, portanto, mede 20° .

Opção E

Questão 13

Solução: Em um primeiro momento, a pessoa tem x na mão direita e $x + 9$ na mão esquerda. Depois, levando 3 moedas da mão direita para a mão esquerda ficará agora com $x - 3$ na mão direita e $x + 9 + 3$ na mão esquerda. Logo:

$$x + 12 = 30 \Rightarrow x = 18$$

Opção C

Questão 14

Solução: Vamos supor que o capital investido seja C_0 . A um regime de juros simples, em n meses os juros j serão:

$$j = n \cdot \frac{5}{100} \cdot C_0$$

O montante (juros mais capital investido) será o triplo do capital investido, ou seja:

$$3C_0 = n \cdot \frac{5}{100} \cdot C_0 + C_0$$

Logo:

$$2C_0 = n \cdot \frac{1}{20} \cdot C_0 \Rightarrow n = 40$$

Opção A

Questão 15

Solução: Dividindo o preço final (após o desconto) pelo preço inicial:

$$\frac{1100}{1250} = \frac{44 \cdot 25}{50 \cdot 25} = 0,88 = 88\%$$

O desconto, foi portanto, de 12%.

Opção C

Capítulo 22

Matemática 2013/2014

Questão 1

Solução: Se o desconto é de 28% o preço de venda p é de 72% do preço original, ou seja:

$$p = \frac{72}{100} \cdot 915 \Rightarrow p = 658,8$$

Opção C

Questão 2

Solução: Vamos representar todas as opções em algarismos indo-arábicos:

(A) 445

(D) 415

(B) 745

(E) 825

(C) 715

Opção B

Questão 3

Solução: Respeitando os sinais de associação e a ordem das operações teremos:

$$X = (20 - 4 \div 2) + (8 \cdot 4 - 2) \Rightarrow X = (20 - 2) + (32 - 2)$$

Daí:

$$X = 18 + 30 \Rightarrow X = 48$$

Opção E

Questão 4

Solução: Basta agruparmos os termos semelhantes da equação literal em x :

$$7x + p = 3x + 7p \Rightarrow 7x - 3x = 7p - p \Rightarrow 4x = 6p \Rightarrow x = \frac{3p}{2}$$

Opção E**Questão 5**

Solução: O problema em questão pode ser resolvido por uma regra de três simples:

Marinheiros	→	Horas
3	→	2
4	→	h

Como as grandezas são inversamente proporcionais podemos escrever:

$$\frac{3}{4} = \frac{h}{2} \Rightarrow h = \frac{6}{4} \Rightarrow h = 1,5 \text{ horas}$$

Passando para minutos:

$$h = 1,5 \cdot 60 \Rightarrow h = 90 \text{ minutos}$$

Opção A**Questão 6**

Solução: Lembrando que número natural primo é aquele que possui apenas dois divisores distintos: o 1 e o próprio número. Isto já exclui o 1 e todos os números pares maiores do que 2. Sendo assim são primos entre 25 e 42:

$$29, 31, 37, 41$$

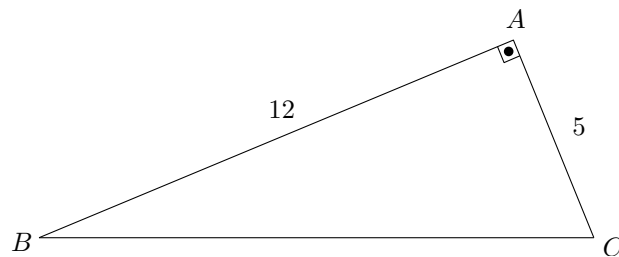
Opção B**Questão 7**

Solução: O triângulo é retângulo em A e seus catetos são 12 e 5. Usando o teorema de Pitágoras podemos escrever:

$$\overline{BC}^2 = \overline{AB}^2 + \overline{AC}^2$$

Logo:

$$\overline{BC}^2 = 12^2 + 5^2 \Rightarrow \overline{BC}^2 = 144 + 25 \Rightarrow \overline{BC}^2 = 169$$



Então:

$$\overline{BC} = 13 \text{ cm}$$

Então o perímetro será:

$$2p = 13 + 12 + 5 \Rightarrow 2p = 30 \text{ cm}$$

Opção B

Questão 8

Solução: Calculando separadamente, teremos:

$$A = 2 - \frac{1}{4} \Rightarrow A = \frac{8-1}{4} \Rightarrow A = \frac{7}{4}$$

E

$$B = 5 + \frac{1}{2} \Rightarrow B = \frac{10+1}{2} \Rightarrow B = \frac{11}{2}$$

Calculando $\frac{A}{B}$:

$$\frac{A}{B} = \frac{\frac{7}{4}}{\frac{11}{2}} = \frac{7}{4} \times \frac{2}{11} = \frac{7}{22}$$

Opção D

Questão 9

Solução: Calculando a circunferência C do prato de raio R encontramos:

$$C = 2\pi R \Rightarrow C = 2 \cdot 3,1 \cdot 12 \Rightarrow C = 74,4 \text{ cm}$$

Opção D

Questão 10

Solução: Para calcular o valor de Y , fatoramos cada radicando:

$$Y = \sqrt{2^5} - \sqrt{2^3} \Rightarrow Y = 4\sqrt{2} - 2\sqrt{2} \Rightarrow Y = 2\sqrt{2}$$

Opção E

Questão 11**Solução:** Primeiro calculamos o total T de picolés vendidos:

$$T = 105 + 109 + 118 \Rightarrow T = 332 \text{ picolés}$$

A quantidade F que ainda falta será:

$$F = 400 - 332 \Rightarrow F = 68 \text{ picolés}$$

Opção C

Questão 12**Solução:** Solucionando a equação:

$$3x - 4 = 2 \Rightarrow 3x = 6 \Rightarrow x = 2$$

Opção C

Questão 13**Solução:** Fazendo a soma termo a termo teremos:

$$\begin{array}{r} 10^\circ 20' 30'' \\ + 30^\circ 50' 10'' \\ \hline 40^\circ 70' 40'' \end{array}$$

Como $60' = 1^\circ$ teremos $41^\circ 10' 40''$.

Opção D

Questão 14**Solução:** Para que uma equação do segundo grau tenha raízes reais e iguais, o discriminante deve ser nulo, ou seja:

$$\Delta = 0$$

Como sabemos que

$$\Delta = b^2 - 4ac$$

Ou seja:

$$b^2 - 4ac = 0 \Rightarrow (-2)^2 - 4 \cdot 3 \cdot k = 0$$

Daí temos:

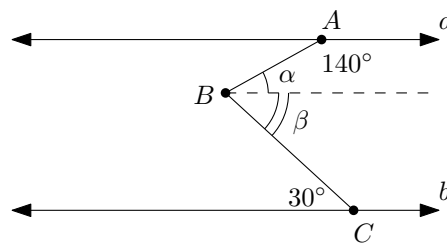
$$4 - 12k = 0 \Rightarrow k = \frac{1}{3}$$

Opção A

Questão 15

Solução 1: Traçamos uma paralela a a e b passando por B , fazendo dois ângulos α e β . Repare que, com isso teremos:

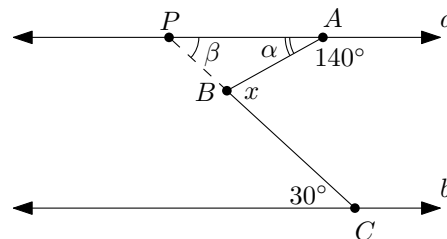
$$\alpha + 140^\circ = 180^\circ \Rightarrow \alpha = 40^\circ$$



Pelo mesmo motivo temos $\beta = 30^\circ$. Mas queremos $x = \alpha + \beta$:

$$\alpha + \beta = 30^\circ + 40^\circ = 70^\circ$$

Solução 2: Podemos prolongar o segmento BC até encontrar a no ponto P .



É fácil ver que $\beta = 30^\circ$, pois são alternos internos. Em A , vemos que $\alpha + 140^\circ = 180^\circ$, logo $\alpha = 40^\circ$. Repare que x é ângulo externo do triângulo PAB , daí:

$$x = \alpha + \beta \Rightarrow x = 40^\circ + 30^\circ \Rightarrow x = 70^\circ$$

Opção D

Capítulo 23

Matemática 2014/2015

Questão 1

Solução: Seja a equação dada:

$$2 \cdot (3x + 2) = 2 \cdot (4 - x)$$

Desenvolvendo:

$$6x + 4 = 8 - 2x \Rightarrow 6x + 2x = 8 - 4 \Rightarrow 8x = 4 \Rightarrow x = 0,5$$

Opção A

Questão 2

Solução: Na divisão euclideana entre números naturais, se n é o dividendo, d é o divisor, q é o quociente e r é o resto temos

$$n = dq + r$$

Além disso, o resto vai de zero – quando a divisão é dita exata – até $d - 1$, pois caso contrário a divisão continuaria, portanto, r deve ser tal que $0 \leq r < d$. Daí, se o divisor é 12 e o resto é o maior possível, temos $r = 11$. Logo:

$$n = 12 \cdot 8 + 11 \Rightarrow n = 107$$

Opção D

Questão 3

Solução: Primeiro vamos calcular o total de lixo recolhido:

$$250 + 80 + 30 + 60 = 420$$

Agora calculamos a fração pedida

$$\frac{60}{420} = \frac{6}{42} = \frac{1}{7}$$

Opção E

Questão 4

Solução: Solucionando a equação dada:

$$x^2 - 3x + 2 = 0$$

Calculando o discriminante:

$$\Delta = (-3)^2 - 4 \cdot 1 \cdot 2 \Rightarrow \Delta = 9 - 8 \Rightarrow \Delta = 1$$

Assim temos:

$$x_{1,2} = \frac{-(-3) \pm \sqrt{1}}{2 \cdot 1}$$

E, portanto:

$$x_1 = \frac{3 + 1}{2} \Rightarrow x_1 = 2$$

E

$$x_2 = \frac{3 - 1}{2} \Rightarrow x_2 = 1$$

Opção D

Questão 5

Solução: Tomemos os números naturais em sequência e veremos que $4^2 = 16$, logo $4^2 < 20$; $5^2 = 25$, então está dentro intervalo esperado; e $6^2 = 36$ que, claro, é maior que 30. Portanto, o único quadrado perfeito entre 20 e 30 é 25. Esta era a idade da professora quando o filho dela nasceu. A idade do filho hoje é um cubo entre 5 e 10, logo é 8. A mãe tem, portanto, $25 + 8 = 33$ anos. Assim a soma das idades é 41.

Opção B

Questão 6

Solução: Basta dividir o novo preço pelo anterior:

$$\frac{560}{500} = 1,12 = 1 + 0,12 = \frac{100}{100} + \frac{12}{100}$$

O acréscimo é então de 12%.

Observação: Esta ideia de observar o fator multiplicativo para determinar a porcentagem é chamada de variação percentual. Considere um acréscimo de x por cento sobre uma quantia y :

$$y + \frac{x}{100} \cdot y = y \left(1 + \frac{x}{100} \right)$$

Veja que, nesta questão, $x = 12$.

Opção C

Questão 7:

Solução: Seja h a altura a partir do solo. Basta calcular o seno do ângulo de 60° :

$$\text{sen } 60^\circ = \frac{h}{50} \Rightarrow h = 50 \cdot \text{sen } 60^\circ \Rightarrow h = \frac{50 \cdot \sqrt{3}}{2} \Rightarrow h \approx 42,5 \text{ m}$$

Opção C

Questão 8

Solução: Em problemas deste tipo, devemos começar resolvendo o radical “mais interno” e aos poucos calcular aos radicais mais “externos”. Desenvolvendo a expressão dada:

$$\sqrt{13 + \sqrt[3]{25 + \sqrt{8 - \sqrt[3]{64}}}} = \sqrt{13 + \sqrt[3]{25 + \sqrt{8 - 4}}} = \sqrt{13 + \sqrt[3]{25 + 2}} =$$

Continuando:

$$= \sqrt{13 + 3} = 4$$

Opção A

Questão 9

Solução: Se o carro de João percorre 12 km para cada litro, então, para percorrer 600 km, ele usará $\frac{600}{12} = 50$ litros. Se o custo de 1 litro é de R\$ 2,87, para 50 litros teremos $50 \times 2,87 = 143,50$.

Opção E

Questão 10

Solução: Basta somar os lados:

$$X + X + Y + X + 2Y + Z + Z + Y = 3X + 4Y + 2Z$$

Opção B

Questão 11

Solução: De acordo com o enunciado as faces que estão para baixo são 6, 5, 1, 4, 5, 5, 2 e 6. A soma será, portanto:

$$6 + 5 + 1 + 4 + 5 + 5 + 2 + 6 = 34$$

Opção C

Questão 12

Solução: Para obter o volume em litros só precisamos usar as medidas em decímetros, pois $1 \text{ dm}^3 = 1 \ell$, daí o volume a ser calculado é:

$$20 \times 15 \times 10 = 3000 \ell$$

Opção D

Questão 13

Solução: Repetindo a sequência dada como algoritmo temos:

$$\begin{aligned} \{[(-20) \times (-3)] \div (-5)\} - 8 + 4 &= \{[60] \div (-5)\} - 4 = \\ &= -12 - 4 = -16 \end{aligned}$$

Opção A

Questão 14

Solução: Primeiro calcularemos a área total A da praça:

$$A = 12^2 = 144 \text{ m}^2$$

Agora calculamos a área em branco A_b :

$$A_b = 4 \cdot \frac{4 \cdot 4}{2} = 32 \text{ m}^2$$

A área cinza A_c é a diferença entre a área total A e a área em branco A_b , ou seja:

$$A_c = A - A_b$$

Substituindo os valores anteriores:

$$A_c = 144 - 32 \Rightarrow A_c = 112 \text{ m}^2$$

Opção E

Questão 15

Solução: Usando as propriedades de potenciação:

$$\frac{2^{2014}}{2} = 2^{2014-1} = 2^{2013}$$

Opção D

Capítulo 24

Matemática 2015/2016

Questão 1

Solução: Vamos chamar os lados do terreno retangular de x e y . Neste caso a área é $xy = 200$ e o perímetro é $2x + 2y = 60$. Podemos então escrever:

$$2x + 2y = 60 \Rightarrow x + y = 30 \Rightarrow y = 30 - x$$

Usando a expressão da área:

$$x(30 - x) = 200 \Rightarrow -x^2 + 30x - 200 = 0$$

Calculando o discriminante:

$$\Delta = 30^2 - 4 \cdot (-1) \cdot (-200) \Rightarrow \Delta = 900 - 800 \Rightarrow \Delta = 100$$

Portanto:

$$x_{1,2} = \frac{-30 \pm \sqrt{100}}{2 \cdot (-1)}$$

Assim:

$$x_1 = \frac{-30 + 10}{-2} \Rightarrow x_1 = 10 \Rightarrow y_1 = 20$$

E

$$x_2 = \frac{-30 - 10}{-2} \Rightarrow x_2 = 20 \Rightarrow y_2 = 10$$

Observação: Repare que, neste caso, você pode testar as soluções e chegar à opção correta.

Opção D

Questão 2

Solução: Vamos escrever os conjuntos:

$$A = \{3, 6, 9, 12, 15, 18, 21, 24, 27, \dots\}$$

$$B = \{5, 10, 15, 20, 25, 30, 35, 40, 45, \dots\}$$

$$C = \{12, 24, 36, 48, 60, \dots\}$$

Repare que, se continuarmos escrevendo os múltiplos de cada número, eles só coincidirão nos múltiplos positivos de 60. Isto ocorre, simplesmente porque $\text{mmc}(3, 5, 12) = 60$.

Opção E**Questão 3**

Solução: Suponha que o capital investido seja C e que o montante M seja dado pela expressão:

$$M = C + Cit$$

Na qual, i é a taxa de juros e t o tempo em que o capital ficou investido. Assim:

$$3C = C + C \cdot \frac{5}{100} \cdot t \Rightarrow \frac{Ct}{20} = 2C \Rightarrow t = 40 \text{ meses}$$

Que correspondem a 3 anos e 6 meses.

Opção C**Questão 4**

Solução: Se o diâmetro vale 40 cm, o raio vale 20 cm. Chamamos a corda de $AB = 24$ cm e marcamos seu ponto médio M . Veja na figura 24.1.

Pelas propriedades do triângulo isósceles teremos:

$$20^2 = d^2 + MB^2 \Rightarrow 400 = d^2 + 12^2 \Rightarrow d^2 = 400 - 144$$

Logo

$$d = \sqrt{256} \Rightarrow d = 16 \text{ cm}$$

Opção C

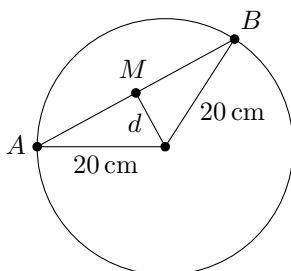


Figura 24.1: A corda AB “fecha” um triângulo isósceles com o centro do círculo.

Questão 5

Solução: Primeiro calculamos a área total da parede que é retangular:

$$8 \times 3 = 24 \text{ m}^2$$

Cada azulejo de lado 40 cm (ou 0,4 m) possui área de $0,4 \times 0,4 = 0,16 \text{ cm}^2$. Fazendo a divisão da área da parede pela área de cada azulejo:

$$\frac{24}{0,16} = 150$$

Adicionando 10% teremos:

$$150 + \frac{10}{100} \cdot 150 = 165 \text{ azulejos}$$

Opção B

Questão 6

Solução: Basta efetuar o produto:

$$(\sqrt{3} - \sqrt{2}) \cdot (\sqrt{3} + \sqrt{2}) = 3 + \sqrt{6} - \sqrt{6} - 2 = 1$$

Opção B

Questão 7

Solução: Podemos usar proporção inversa. O dobro da velocidade levará a metade do tempo, ou seja, 2 horas. Mas podemos calcular a distância:

$$9 = \frac{d}{4} \Rightarrow d = 36 \text{ km}$$

Recalculando para uma velocidade de 18 km/h:

$$18 = \frac{36}{t} \Rightarrow t = 2 \text{ h}$$

Opção B

Questão 8

Solução: Sabemos que a área A de um círculo de raio r pode ser calculada como $A = \pi r^2$. Logo:

$$121\pi = \pi r^2 \Rightarrow r^2 = 121 \Rightarrow r = 11 \text{ cm}$$

Opção D

Questão 9

Solução: A soma S das raízes de um equação do segundo grau no formato $ax^2 + bx + c = 0$ é dada por $S = -\frac{b}{a}$, logo:

$$S = -\frac{-11}{4} \Rightarrow S = \frac{11}{4}$$

Opção A

Questão 10

Solução: Basta fatorar 75, logo:

$$\sqrt{75} = \sqrt{25 \cdot 3} = 5\sqrt{3}$$

Opção E

Questão 11

Solução: Lembre-se, a multiplicação tem prioridade sobre a adição e a subtração:

$$5 - 3 + 2 \cdot 4 - 1 = 2 + 8 - 1 = 9$$

Opção C

Questão 12

Solução: O número dentro da raiz deve ser positivo ou nulo:

$$2x - 3 \geq 0 \Rightarrow x \geq \frac{3}{2}$$

Opção A

Questão 13

Solução: Sabemos que o lado ℓ de um triângulo equilátero e sua altura se relacionam por $h = \frac{\ell\sqrt{3}}{2}$, daí:

$$12 = \frac{\ell\sqrt{3}}{2} \Rightarrow \ell = \frac{24}{\sqrt{3}}$$

Racionalizando:

$$\ell = \frac{24 \cdot \sqrt{3}}{\sqrt{3} \cdot \sqrt{3}} \Rightarrow \ell = 8\sqrt{3} \text{ cm}$$

Opção C

Questão 14

Solução: Vamos esquematizar a situação por meio de uma figura ilustrativa (figura 24.2). Chamaremos de ponto D o ponto de decolagem do avião, H o ponto em que o avião se encontra e G o ponto de onde o garoto observa o avião que está sobre ele.

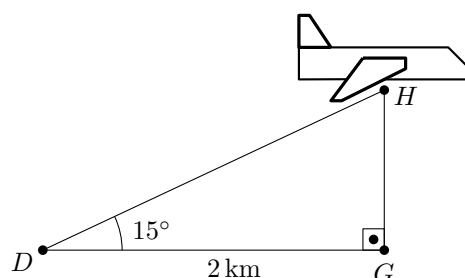


Figura 24.2: Esquema simplificado com o ponto de decolagem (D), o avião (H) e o garoto (G).

Basta agora calcularmos a tangente do ângulo de 15° :

$$\tan 15^\circ = \frac{HG}{DG} \Rightarrow 0,27 = \frac{HG}{2} \Rightarrow HG = 0,54 \text{ km}$$

Passando para metros encontramos 540 m.

Opção B

Questão 15

Solução: É importante lembrar que em um relógio analógico (de ponteiros), há 12 setores de 30° , divididos em intervalos de 5 minutos. Assim, o ponteiro dos minutos percorreu um ângulo de 120° , ou seja 4 intervalos de 5 minutos cada. Já o ponteiro das horas, que às 15 h está sobre o número 3 do relógio, percorrerá um ângulo que precisamos determinar. O ponteiro das horas percorre 30° a cada 1 h (60 minutos). Então:

$$\frac{30^\circ}{60} = \frac{x}{20}$$

O ponteiro das horas percorrerá então x graus nestes 20 minutos, assim $x = 10^\circ$. Daí, o ponteiro das horas “andou” 10° a partir do 3 do relógio e o ponteiro dos minutos “andou” até o número 4. A diferença é portanto de 20° .

Opção C

Apêndice A

Gabarito Completo

Nesta tabela você encontra o gabarito com as opções corretas para cada questão (Q) separado por ano (A) de aplicação da prova. Por exemplo, o ano 04/05 refere-se ao concurso 2004/2005. As questões com “X” foram anuladas ou não apresentam opção válida.

A/Q	1	2	3	4	5	6	7	8	9	10	11	12	13	14	15
04/05	A	E	C	A	B	B	E	E	C	B	A	C	D	D	C
05/06	E	D	D	D	C	B	C	D	A	D	A	B	E	B	B
06/07	E	B	B	E	D	B	B	E	D	A	C	X	C	A	C
07/08	B	E	A	E	D	C	B	B	D	C	E	D	A	C	D
08/09	D	A	E	B	D	B	B	E	D	C	A	C	E	C	D
09/10	A	A	B	D	B	E	C	A	B	B	C	D	C	E	D
10/11	B	D	E	E	B	D	C	D	E	C	A	C	A	A	B
11/12	C	E	B	A	D	D	A	E	C	D	C	E	B	B	E
12/13	B	E	A	D	A	A	C	D	D	B	D	E	C	A	C
13/14	C	B	E	E	A	B	B	D	D	E	C	C	D	A	D
14/15	A	D	E	D	B	C	C	A	E	B	C	D	A	E	D
15/16	D	E	C	C	B	B	B	D	A	E	C	A	C	B	C